



الصف : ٥ ب

صل كل شكل بالاسم المناسب:

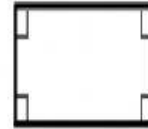

اسم الطالب /

نشاط (الأشكال الرباعية)


مستطيل

مربع

شبه منحرف



أكتب اسم الشكل ثم أوجد عدد الزوايا الحادة وعدد الزوايا المنفرجة فيه :



اسم الشكل

عدد الزوايا الحادة

عدد الزوايا المنفرجة



اسم الشكل

عدد الزوايا الحادة

عدد الزوايا المنفرجة



اسم الشكل

عدد الزوايا الحادة

عدد الزوايا المنفرجة

ركن التحم الذاتي

لمراجعة الدرس يمكنك في تطبيق اليوتيوب
والبحث عن عنوان الدرس

عمار الرياضيات لهذا الأسبوع

دائما يوجد لك مكان في القمة