

## JAWABLAH PADA KOTAK YANG TELAH DISEDIAKAN

(KETIKKAN ANGKANYA SAJA KECUALI BILANGAN DESIMAL PISAHKAN DENGAN TANDA KOMA)

1. Hasil dari  $10.000 - 999$  adalah
2. Nilai dari  $20 + 17 \times 20 - 17 =$
3. Hasil dari  $2,017 + 20,17 + 201,7 =$
4. Ibu memiliki 5 lembar uang Rp2.000,00-an, 5 lembar uang Rp1.000,00-an, dan 5 lembar uang Rp5.000,00-an. Jumlah keseluruhan uang Ibu adalah  (KETIKKAN ANGKANYA SAJA)

5. Jam dibawah ini menunjukkan pukul... (Pilihlah salah satu opsi dibawah)



08:50

09:40

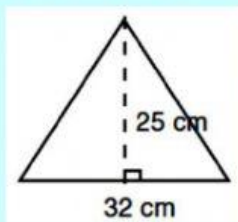
10:08

6. Umur Hasna saat ini adalah 2 lustrum. Umur adiknya 6 semester lebih muda dari umur Hasna. Umur adiknya 2 tahun yang lalu adalah  tahun.
7. Sebuah taman memiliki tiga buah lampu. Lampu merah menyala setiap 5 menit. Lampu kuning menyala setiap 4 menit. Lampu hijau setiap 3 menit. Pada pukul 20.30 ketiganya menyala bersama. Ketiga lampu akan menyala bersama kembali pada pukul

(PISAHKAN JAM DAN MENIT DENGAN TANDA TITIK DUA (:))

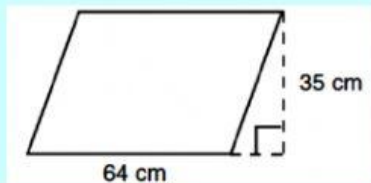
8.  $3 \text{ gros} - 10 \text{ lusin} - 84 \text{ buah} =$   lusin.

9. Perhatikan gambar berikut.



Luas segitiga pada gambar di atas adalah   $cm^2$

10. Perhatikan gambar berikut.

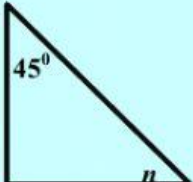


Luas gambar di atas adalah   $cm^2$

11. Nilai dari  $10 - (-10) - 5 =$

12. LXXXIX kalau ditulis sama dengan

13. 3 jam 25 menit 55 detik  
1 jam 54 menit 22 detik +  
 jam  menit  detik

14.  Besar sudut  $n$  adalah   $^\circ$

15. Jika  $\frac{3}{5} = \frac{n}{30}$ . Nilai  $n$  adalah