



CARIACICA, DE MARÇO DE 2021

E.M.E.F NOÊMIA COSTA DE LIMA

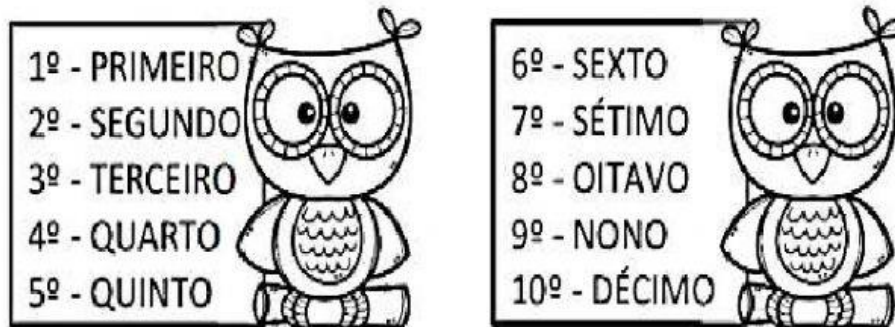
PROFESSORA:

ESTUDANTE:


NÚMEROS ORDINAIS

PARA INDICAR ORDEM, POSIÇÃO OU LUGAR, UTILIZAMOS OS NÚMEROS ORDINAIS.

OS NÚMEROS ORDINAIS ATÉ 10 SÃO:



QUESTÃO 1: INDIQUE COM O NUMERAL ORDINAL, A POSIÇÃO EM QUE CADA DESENHO SE ENCONTRA NA SEQUÊNCIA:



QUESTÃO 2: AGORA COMPLETE:

- 1) A ESTRE É O _____ ELEMENTO DA SEQUÊNCIA;
- 2) O PINGUIM É O _____ ELEMENTO DA SEQUENCIA;
- 3) A _____ É O 4º ELEMENTO DA SEQUENCIA;
- 4) O 5º ELEMENTO DA SEQUENCIA É A _____
- 5) A OVELHA É O _____ ELEMENTO DA SEQUENCIA.

QUESTÃO 3: O ÔNIBUS DA ESCOLA DE MARIANA TEM CAPACIDADE PARA 30 ALUNOS, HOJE APENAS 22 ALUNOS FORAM. QUANTOS ALUNOS FALTARAM?

- 10
- 9
- 8



QUESTÃO 4: NA CASA DE MATEUS TEM 10 LARANJEIRAS, 1 MANGUEIRA, 2 LIMOEIROS, 12 ACELOREIRAS E 2 BANANEIRAS. QUANTAS ÁRVORES TEM NA CASA DE MATEUS AO TODO?

- 20
- 27
- 18



QUESTÃO 5: JUNIOR TEM UMA COLEÇÃO DE CARRINHOS DE BRINQUEDOS COM 18 CARRINHOS. ELE QUER DIVIDI-LOS IGUALMENTE EM TRÊS PRATELEIRAS. QUANTOS CARRINHOS CADA PRATELEIRA TERÁ?

- 6
- 7
- 10





QUESTÃO 6: SE A PREVISÃO É DE QUE O DIA AMANHEÇA EM 20° C E PASSE PARA 33° C AO LONGO DO DIA. QUANTOS GRAUS IRÁ SUBIR?

- 13
- 18
- 15



QUESTÃO 7: LIGUE AS FORMAS AOS NOMES DAS FIGURAS GEOMÉTRICAS.



CÍRCULO

LOSANGO

QUADRADO

TRIÂNGULO

RETÂNGULO