

ΟΝΟΜΑ:



ΜΕΤΡΗΣΗ ΜΑΖΑΣ



ΗΜΕΡΟΜΗΝΙΑ:

- Κύκλωσε τις προτάσεις που είναι σωστές:

Ένα μολύβι ζυγίζει:

30 γραμμάρια

30 κιλά

30 τόνους

Ένα παιδί ζυγίζει:

30 γραμμάρια

30 κιλά

30 τόνους

Ένα φορτηγό με εμπόρευμα ζυγίζει:

30 γραμμάρια

30 κιλά

30 τόνους

Ένα ποδήλατο ζυγίζει:

8 γραμμάρια

8 κιλά

8 τόνους

Ένας ελέφαντας ζυγίζει:

7 γραμμάρια

7 κιλά

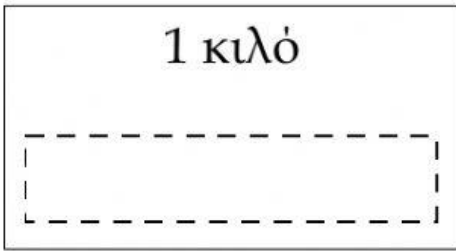
7 τόνους

- Βάζω τα αντικείμενα στη σειρά, από το ελαφρύτερο στο βαρύτερο:



_____ < _____ < _____ < _____ < _____ < _____

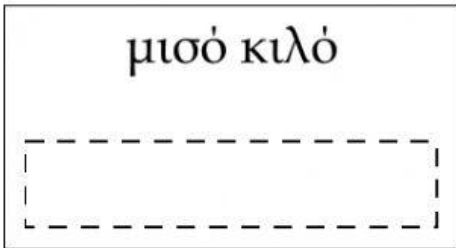
- Τοποθετώ σωστά:



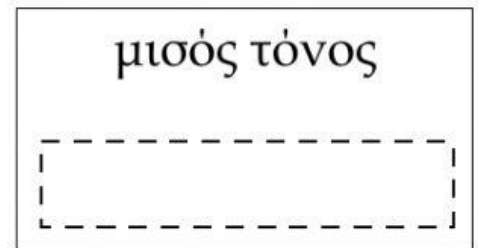
1.000 κιλά



500 κιλά



1.000 γραμμάρια



500 γραμμάρια

- Συμπληρώνω τις ισότητες:

1 κιλό = γρ.

5.000

1

2 κιλά = γρ.

4.000 γρ. = κ.

2.000

1.000

4

1.000 κ. = τόνος

5 κ. = γρ.

5

5.000 κ. = τ.

- Επιλέγω τις εικόνες στις οποίες η ζυγαριά είναι σωστή:

