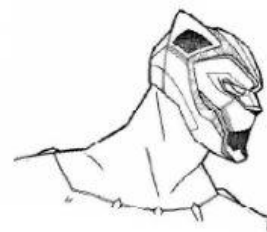



PROBLEMI CON ADDIZIONI E SOTTRAZIONI



IN UNA FATTORIA CI SONO 2 MUCCHE E 6 MAIALI. QUANTI ANIMALI CI SONO IN TUTTO?



mucche
 maiali
 animali in tutto

+ =



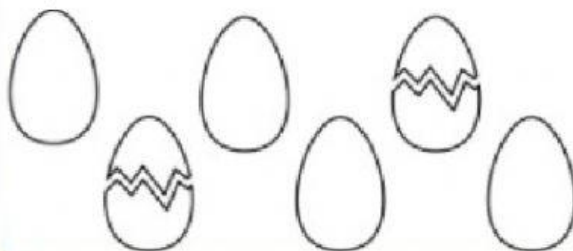
SU UN VASSOIO CI SONO 16 DOLCI. I BAMBINI MANGIANO TUTTE LE 7 CIAMBELLE LASCIANDO SOLO I MUFFIN. QUANTI SONO I MUFFIN?



dolci in tutto
 ciambelle
 muffin

- =


LA MADRE DI LUCA HA COMPRATO 6 UOVA E NE HA USATE 2 PER LA CENA. QUANTE UOVA SONO RIMASTE?



uova comprate
 uova utilizzate
 uova rimanenti

- =


IN UN PARCHEGGIO CI SONO 3 AUTOMOBILI E 4 MOTOCICLETTE. QUANTI VEICOLI CI SONO IN TUTTO?



automobili
 motociclette
 veicoli in tutto

+ =

IN UNA PALESTRA CI SONO 9 PALLONI. 4 SONO PALLONI DA CALCIO E GLI ALTRI DA PALLAVOLO. QUANTI SONO I PALLONI DA PALLAVOLO?



palloni in tutto
 palloni da calcio
 palloni da pallavolo

=

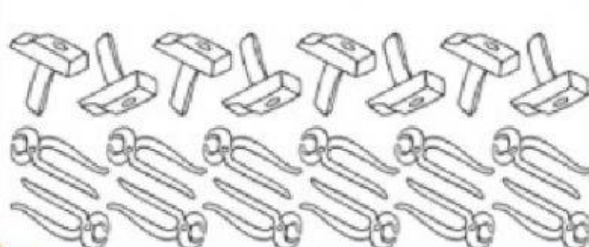
ATTORNO AD UNA PIANTA FIORITA CI SONO 3 FARFALLE E 5 API. QUANTI INSETTI CI SONO IN TUTTO?



farfalle
 api
 insetti in tutto

=

IL PADRE DI FABIO ACQUISTA IN FERRAMENTA 20 UTENSILI. DI QUESTI 8 SONO MARTELLI E I RIMANENTI TENAGLIE. QUANTE SONO LE TENAGLIE?



utensili in tutto
 martelli
 tenaglie

=

