

Anápolis, ____ de abril de 2021.

Disciplina: Geografia

COU TO
1932
MAGALHÃES

Aluno (a): _____

Professor (a): Sara Batista Silva

6º ANO

1º Bimestre

RETOMADA DE ESTUDO FUSOS HORÁRIOS

1. É meio dia em Brasília. Que horas serão em Rio Branco-Acre?

Serão 10:00 horas
Serão 9:00 horas
Serão 22:00 horas
Serão 21:00 horas



2. De acordo com o mapa do Brasil de fusos horários, quantas horas Fernando de Noronha está atrasado em relação a Greenwich?

2 horas

3 hora

4 horas

5 horas

3. Em Brasília, são 23 horas. Que hora será na Bahia?

21 horas

23 horas

20 horas

2 horas

4. São 8:00 horas no Mato Grosso do Sul, que horas são em Minas Gerais?

9 horas

8 horas.

7 horas

10 horas

5. São 9 hora em Minas Gerais, que horas são em Rondônia?

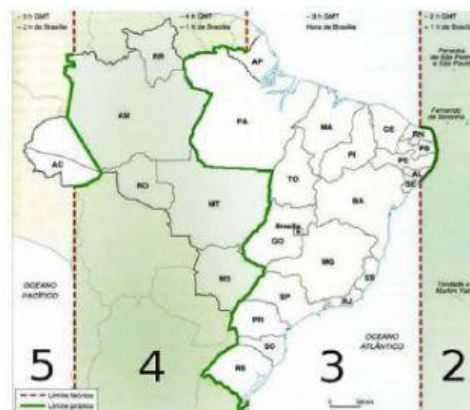
6 horas.

5 horas.

8 horas.

7 horas.

Fusos Horários do Brasil

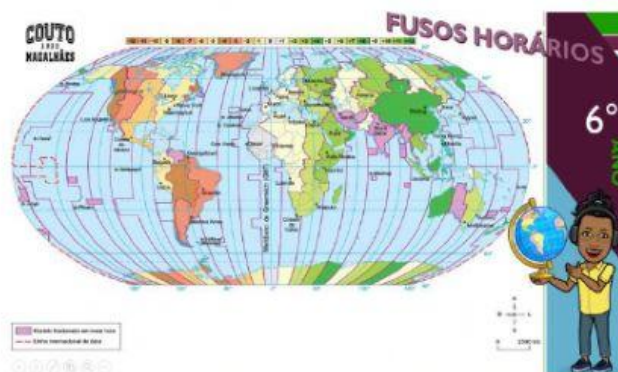


6. Quantos fusos horários existem no mundo?

- | | |
|----|----|
| 12 | 20 |
| 24 | 15 |

7. Quantos graus tem um fuso horário?

- | | |
|------|-----|
| 24° | 15° |
| 360° | 4° |



8. A distância, em graus, entre Brasília e Roma é de 45°. Se em Brasília são 15 horas, que horas são em Roma? Lembre-se de que o horário, em Roma, está sempre adiantado em relação com o de Brasília.

- | | | | |
|----------|----------|----------|----------|
| 10 horas | 11 horas | 12 horas | 18 horas |
|----------|----------|----------|----------|

9. As partes do mundo onde já é amanhã, estão ...

- | | | | |
|---------|---------|----------|--------|
| a leste | a oeste | ao norte | ao sul |
|---------|---------|----------|--------|

10. A linha imaginária, que corresponde ao marco inicial(0°) dos fusos horários, é:

- Trópico de Capricórnio
- Meridiano de Greenwich
- Círculo Polar Ártico
- Linha do Equador

11. Ao dividir os 360 graus da esfera terrestre pelas 24 horas de duração do movimento de _____, o resultado é 15 graus. A cada 15 graus que a Terra gira, passa-se uma hora. Assim, cada uma das 24 divisões da terra corresponde a um _____.

- | | |
|-------------------------|-------------------------|
| translação e meridiano. | translação e paralelo. |
| rotação e círculo. | rotação e fuso horário. |

12. Na divisão do planeta em diversos fusos horários, acrescenta-se 1 hora a leste do Meridiano de Greenwich e retira-se 1 hora a oeste desse mesmo meridiano a cada:

- | | | | |
|-----|------|-----|-----|
| 25° | 0,5° | 10° | 15° |
|-----|------|-----|-----|

13. Madri e Santiago estão a 60° distantes. Se em Madri são 10 horas, que horas são em Santiago? Lembre-se de que o horário, em Santiago, está atrasado em relação ao de Madri.

- | | | | |
|---------|---------|----------|----------|
| 6 horas | 7 horas | 12 horas | 13 horas |
|---------|---------|----------|----------|



14. Sobre a localização do território brasileiro, marque a alternativa correta.

todo o território nacional encontra-se no Hemisfério Sul.

a capital, Brasília, encontra-se a leste de Greenwich.

o Brasil localiza-se em dois hemisférios diferentes.

os dois paralelos que cruzam o território nacional são a linha do Equador e o Trópico de Capricórnio.

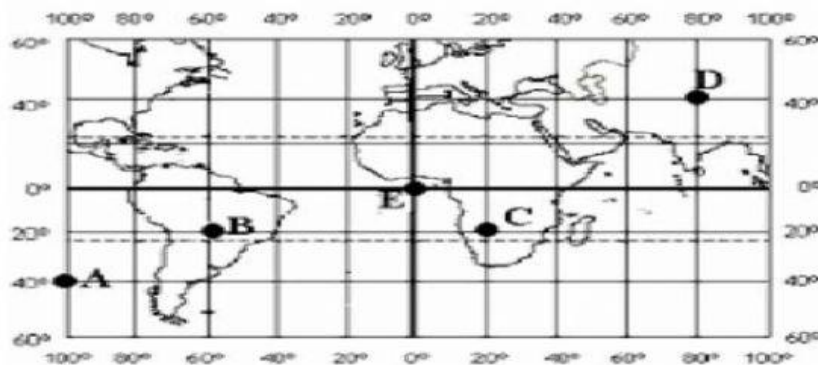
15. O ponto **C** localiza-se a:

20°S 40°L

20°N 40°O

20°S 20°L

40° O 20°N



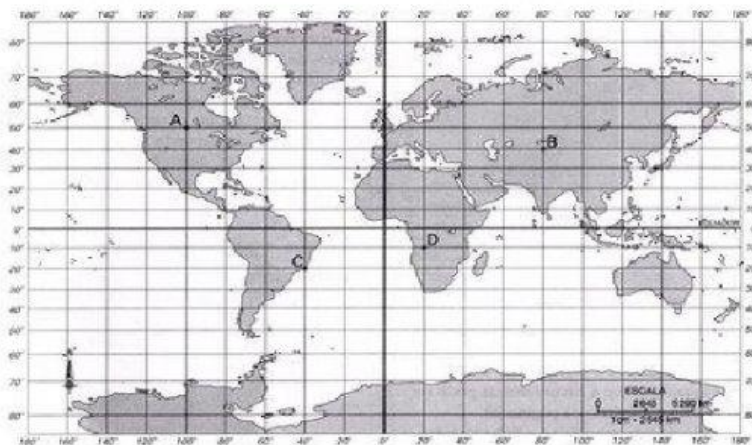
16. As coordenadas do lugar **A** são...

100° oeste e 50° Norte

49° norte e 99° Leste

50° sul e 100° Oeste

50° Norte e 100° Oeste



Fico muito feliz com tanta dedicação...

BEIJOCAS!!!

