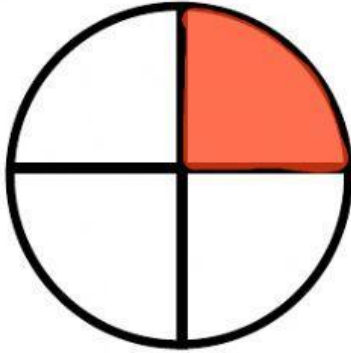
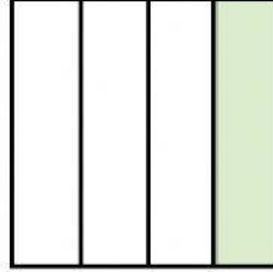



ورقة عمل الثلث و الربع فصل الاشكال الهندسية والكسور رياضيات الصف الاول ١٤٤٢ هـ

اكتب الكسر المناسب :





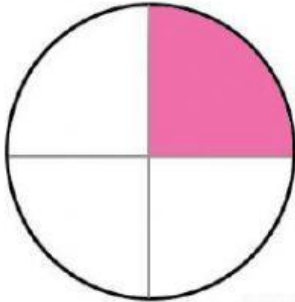




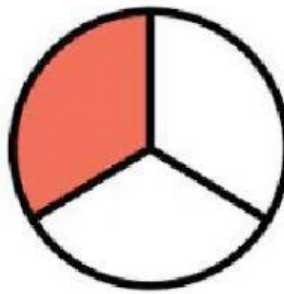





أصل الصورة بالكسر المناسب:



١
٤



١
٢



١
٣

معلمة الصف /  
وداد اللحيلي