

اختبار الكتروني في مادة الرياضيات للصف السادس

المدرسة

اسم التلميذ



(1) عمر أحمد الآن س سنة عمره بعد 3 سنوات =

3س

○ صح ○ خطأ

(2) اطرح 5 من ع في صورة مقدار جبري 5 - ع

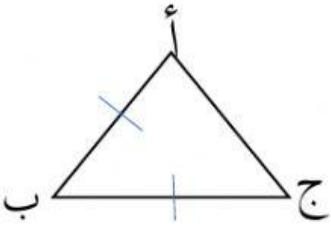
○ صح ○ خطأ

(3) مجموع زوايا الشكل الرباعي = 360°

○ صح ○ خطأ

(4) في المثلث أ ب ج زاوية أ = زاوية ج

○ صح ○ خطأ



الاختبار من متعدد

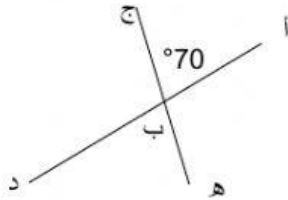
1) قيمة المقدار الجبري $2س + 4$ عندما $س = 3$

أ) 10 ب) 30 ج) 36

2) حصل بدر على ع درجة في امتحان الرياضيات وحصلت

فاطمة على ضعف هذه الدرجة . درجة فاطمة =

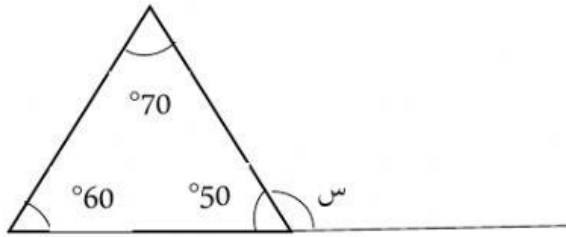
أ) $ع + 2$ ب) $2ع$ ج) $3ع$



3) زاوية ج ب د =

أ) 70° ب) 110° ج) 180°

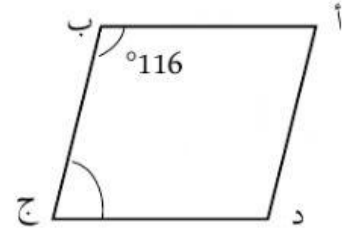
4) زاوية س =



أ) 110° ب) 130° ج) 120°

الترتيب

1



قياس زاوية ب ج د =

4 س

أ

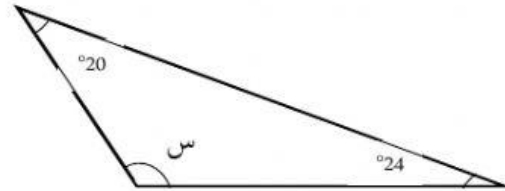
2

اشترت عايذة حزاما ثمنه س دينار
ومحفظة ثمنها 4 أمثال ثمن الحزام .كم
دفعت عايذة ثمنها لهما؟

116°

ب

3



قياس زاوية س =

5 س

ج

4

64°

د

6س - 2س =