

EVALUASI TEMA 8

ARIS DINA SAFA'AH, S.Pd
SD N 3 DOKORO

NAMA :

KELAS :

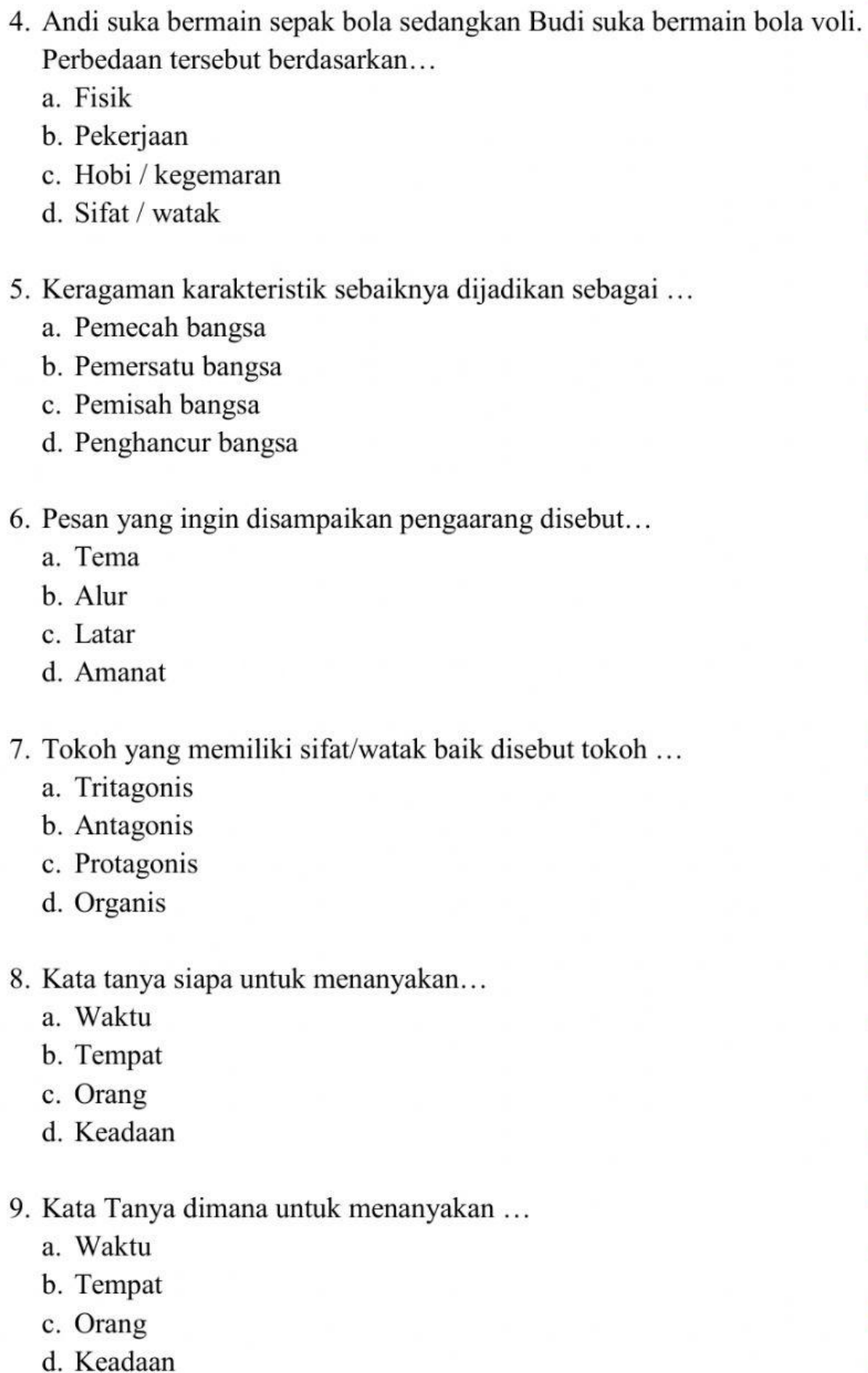
Kerjakan soal di bawah ini dengan cermat !

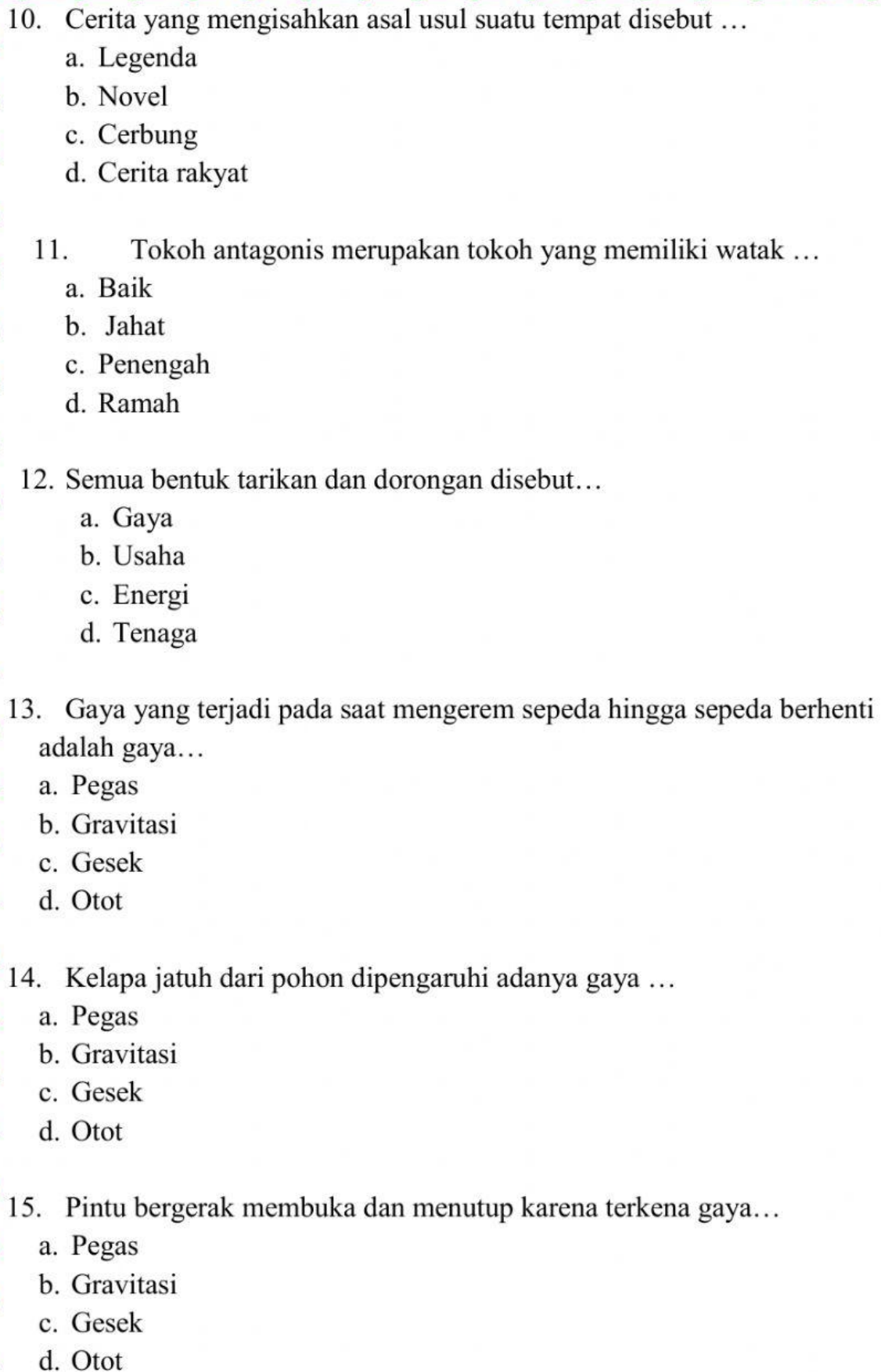
1. Keragaman individu yang dilihat dari warna kulit, jenis rambut, dan tinggi badan dinamakan...
 - a. Keragaman budaya
 - b. Keragaman budaya
 - c. Keragaman fisik
 - d. Keragaman pekerjaan.
2. Apabila kita tidak saling menghormati antar teman yang memiliki keragaman fisik, maka kan menimbulkan ...
 - a. Kerukunan
 - b. Persatuan
 - c. Permusuhan
 - d. Ketentraman
3. Perhatikan gambar di bawah ini!




Pakaian adat pada gambar di atas berasal dari daerah

- a. Jawa tengah
- b. Jawa barat
- c. Jawa timur
- d. Jakarta

- 
4. Andi suka bermain sepak bola sedangkan Budi suka bermain bola voli. Perbedaan tersebut berdasarkan...
- Fisik
 - Pekerjaan
 - Hobi / kegemaran
 - Sifat / watak
5. Keragaman karakteristik sebaiknya dijadikan sebagai ...
- Pemecah bangsa
 - Pemersatu bangsa
 - Pemisah bangsa
 - Penghancur bangsa
6. Pesan yang ingin disampaikan pengarang disebut...
- Tema
 - Alur
 - Latar
 - Amanat
7. Tokoh yang memiliki sifat/watak baik disebut tokoh ...
- Tritagonis
 - Antagonis
 - Protagonis
 - Organis
8. Kata tanya siapa untuk menanyakan...
- Waktu
 - Tempat
 - Orang
 - Keadaan
9. Kata Tanya dimana untuk menanyakan ...
- Waktu
 - Tempat
 - Orang
 - Keadaan

- 
10. Cerita yang mengisahkan asal usul suatu tempat disebut ...
- Legenda
 - Novel
 - Cerbung
 - Cerita rakyat
11. Tokoh antagonis merupakan tokoh yang memiliki watak ...
- Baik
 - Jahat
 - Penengah
 - Ramah
12. Semua bentuk tarikan dan dorongan disebut...
- Gaya
 - Usaha
 - Energi
 - Tenaga
13. Gaya yang terjadi pada saat mengerem sepeda hingga sepeda berhenti adalah gaya...
- Pegas
 - Gravitasi
 - Gesek
 - Otot
14. Kelapa jatuh dari pohon dipengaruhi adanya gaya ...
- Pegas
 - Gravitasi
 - Gesek
 - Otot
15. Pintu bergerak membuka dan menutup karena terkena gaya...
- Pegas
 - Gravitasi
 - Gesek
 - Otot



16. Berikut contoh gaya dapat memengaruhi bentuk benda adalah...

- a. Menendang bola
- b. Mengeram sepeda
- c. Membuat asbak dari tanah liat
- d. Mendorong gerobak

17. Gaya yang terjadi pada karet adalah gaya ...

- a. Pegas
- b. Gravitasi
- c. Gesek
- d. Otot

18. Pekerjaan yang menghasilkan barang antara lain ...

- a. Dokter
- b. Guru
- c. Petani
- d. Sopir

19. Pekerjaan yang menghasilkan jasa antara lain...

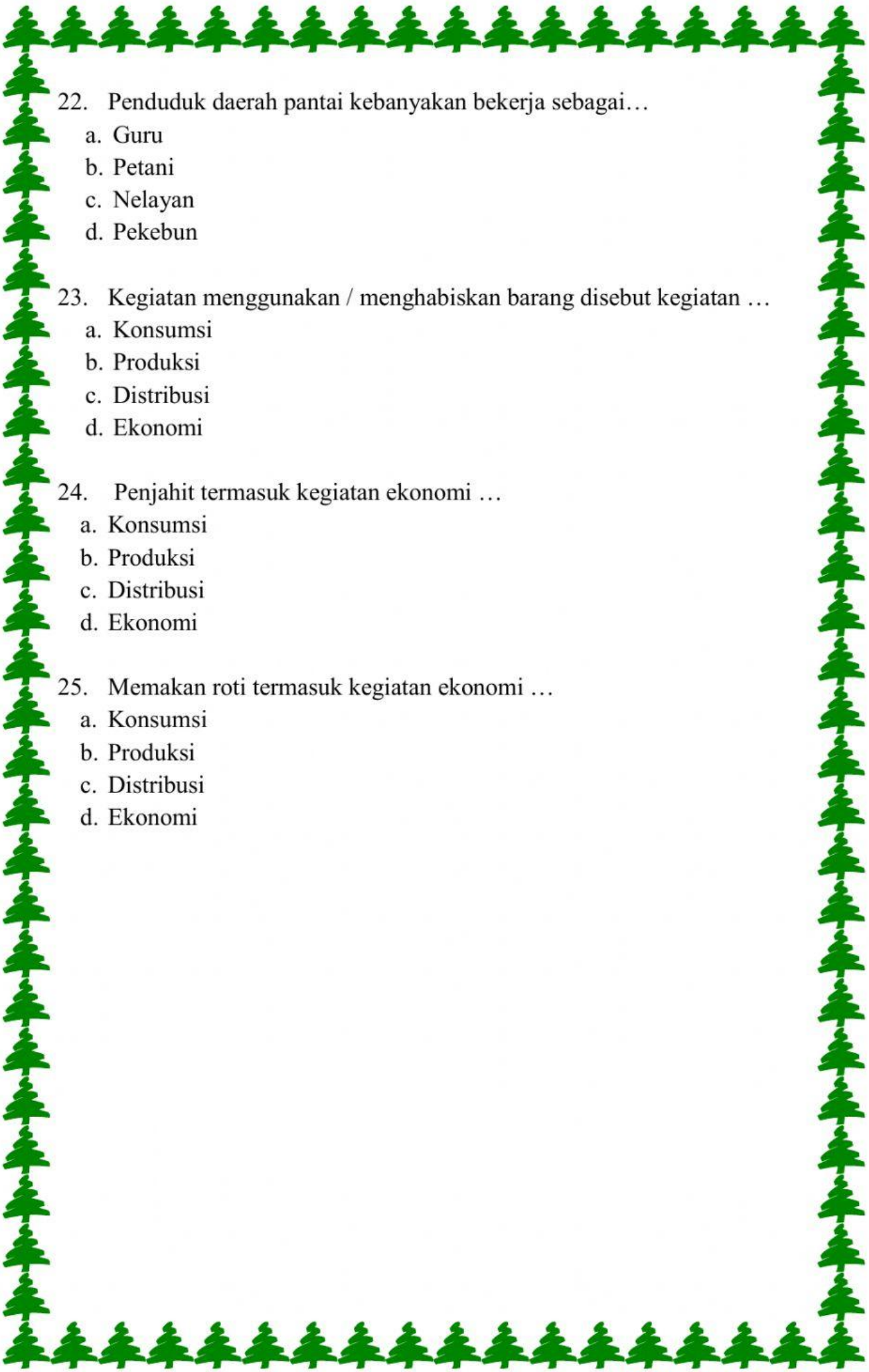
- a. Petani
- b. Pekebun
- c. Guru
- d. Nelayan

20. Kegiatan menghasilkan barang disebut kegiatan ...

- a. Konsumsi
- b. Produksi
- c. Distribusi
- d. Ekonomi

21. Kegiatan menyalurkan barang disebut kegiatan ...

- a. Konsumsi
- b. Produksi
- c. Distribusi
- d. Ekonomi



22. Penduduk daerah pantai kebanyakan bekerja sebagai...

- a. Guru
- b. Petani
- c. Nelayan
- d. Pekebun

23. Kegiatan menggunakan / menghabiskan barang disebut kegiatan ...

- a. Konsumsi
- b. Produksi
- c. Distribusi
- d. Ekonomi

24. Penjahit termasuk kegiatan ekonomi ...

- a. Konsumsi
- b. Produksi
- c. Distribusi
- d. Ekonomi

25. Memakan roti termasuk kegiatan ekonomi ...

- a. Konsumsi
- b. Produksi
- c. Distribusi
- d. Ekonomi