

Nama :

Kelas :

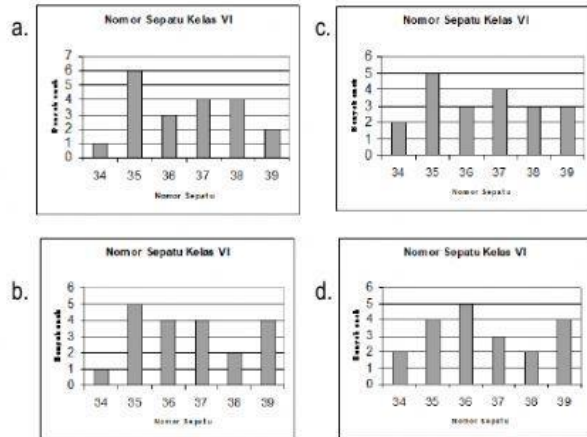
No Absen :

- Perhatikan diagram batang di samping! Hasil panen terbanyak adalah buah
a. pepaya
b. rambutan
c. tomat
d. jeruk



- Perhatikan tabel Nomor Sepatu 20 anak di bawah ini !

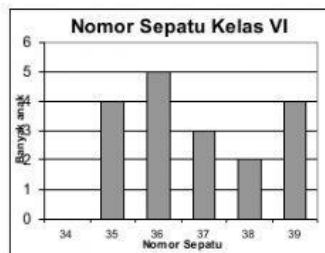
| Nomor Sepatu (cm) | Banyak anak |
|---------------------|-------------|
| 34 | 1 |
| 35 | 6 |
| 36 | 3 |
| 37 | 4 |
| 38 | 4 |
| 39 | 2 |
| Jumlah | 20 |



- Perhatikan diagram batang di samping !

Jika banyaknya siswa 20 anak, maka siswa yang memiliki sepatu dengan nomor 34 adalah

- a. 1
b. 2
c. 3
d. 4



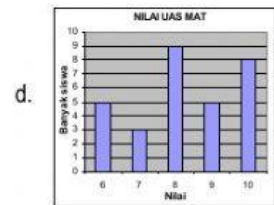
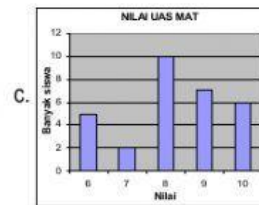
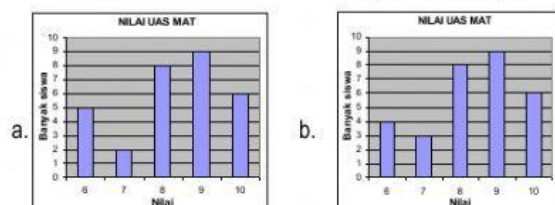
- Pada diagram batang di samping, nilai tertinggi diperoleh oleh ... siswa.

- a. 10
b. 9
c. 8
d. 7

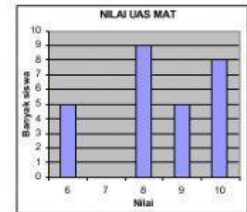


- Tabel di samping ini bila dibuat diagram batang akan terbentuk

| nilai | banyak siswa |
|-------|--------------|
| 6 | 5 |
| 7 | 2 |
| 8 | 8 |
| 9 | 9 |
| 10 | 6 |



- Pada diagram batang di samping jika jumlah siswa 30 anak, maka siswa yang mendapat nilai 7 adalah ... anak.
a. 10
b. 7
c. 4
d. 3



- Data pekerjaan 194 orang tua siswa MI Al Abror sebagai berikut :

20 orang tua siswa bekerja sebagai guru/dosen.
48 orang tua siswa bekerja sebagai pegawai swasta.
65 siswa sebagai PNS.

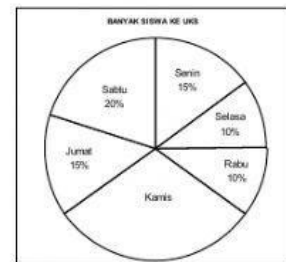
Sisanya adalah bekerja sebagai pedagang.

Data pekerjaan orang tua siswa MI Al Abror yang paling banyak adalah

- a. PNS
b. Pegawai Swasta
c. Pedagang
d. Guru/dosen

- Banyaknya siswa yang pergi ke terbanyak pada hari

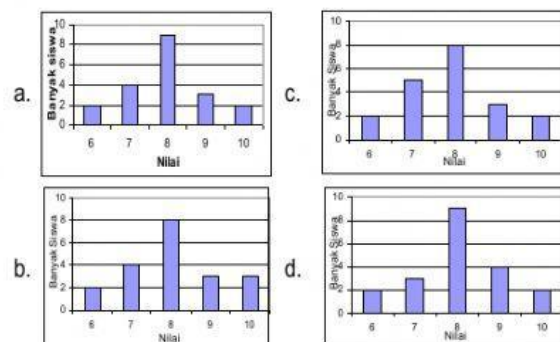
- a. Kamis
b. Jumat
c. Rabu
d. Sabtu



| Nilai | banyak siswa |
|-------|--------------|
| 6 | 2 |
| 7 | 4 |
| 8 | 9 |
| 9 | 3 |
| 10 | 2 |

Perhatikan tabel nilai Bahasa Indonesia di samping!

Diagram batang yang menyatakan data di samping adalah



- Gambar di samping adalah diagram batang tentang nomor sepatu siswa kelas VI. Jika banyaknya murid kelas VI 32 anak, maka anak yang memiliki nomor sepatu 35 adalah

- a. 9
b. 8
c. 7
d. 6

