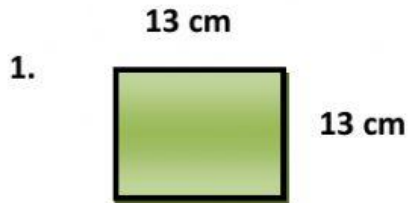


Nama :

Kelas :

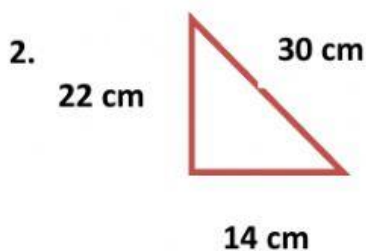


Keliling dan Luas Bangun Datar



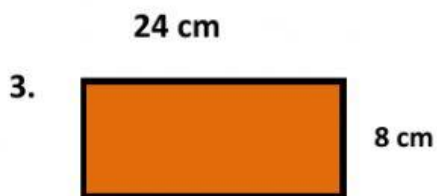
a. Keliling bangun di samping adalah cm

b. Luas bangun di samping adalah cm^2



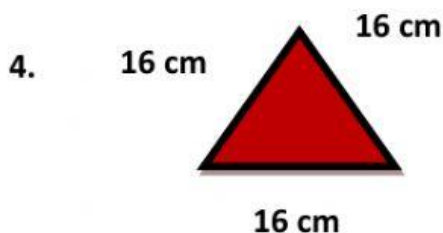
a. Keliling bangun di samping adalah cm

b. Luas bangun di samping adalah cm^2



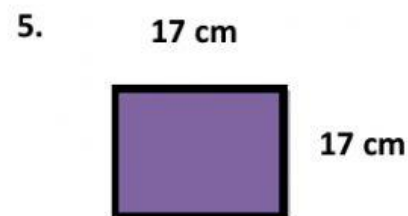
a. Keliling bangun di samping adalah cm

b. Luas bangun di samping adalah cm^2



a. Keliling bangun di samping adalah cm

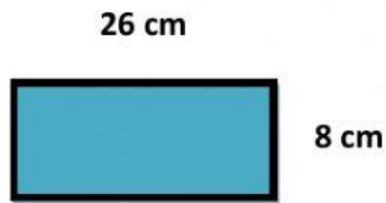
b. Luas bangun di samping adalah cm^2



a. Keliling bangun di samping adalah cm

b. Luas bangun di samping adalah cm^2

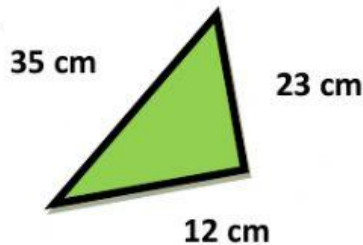
6.



a. Keliling bangun di samping adalah cm

b. Luas bangun di samping adalah cm^2

7.



a. Keliling bangun di samping adalah cm

b. Luas bangun di samping adalah cm^2

8. Reza membeli buku gambar. Buku gambar tersebut berbentuk persegi panjang. Panjangnya 20 cm dan lebarnya 9 cm. Luas buku gambar tersebut adalah cm^2

9. Bu Ayu memiliki kolam renang di depan rumahnya. Kolam renang tersebut berbentuk persegi panjang. Panjangnya adalah 16 m dan lebarnya adalah 4 m. Keliling kolam tersebut adalah m

10. Galih mempunyai papan tulis yang berbentuk persegi. Panjang sisinya adalah 2 meter. Keliling papan tulis tersebut adalah m

-SELAMAT MENGERJAKAN-