

SEGIEMPAT

Nama:

Kelas:

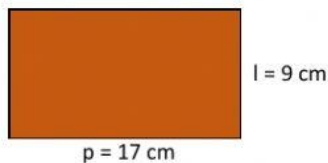
Perhatikan video berikut!



A. Pilihlah jawaban yang paling tepat!

- Banyak cara persegi panjang menempati bingkainya adalah....
 - 4
 - 3
 - 2
 - 1
- Persegi dapat menempati bingkainya sebanyak ... cara
 - 8
 - 4
 - 3
 - 2
- Diketahui persegi panjang KLMN, pernyataan yang benar adalah....
 - $KL \parallel KN$
 - $KM \parallel MN$
 - $KL = MN$
 - $KN = KL$
- Pada persegi ABCD dengan AC dan BD merupakan diagonal-diagonalnya, banyak segitiga siku-siku yang dapat dibentuk adalah....
 - 4
 - 5
 - 6
 - 8
- Lebar persegi panjang dengan keliling 84 cm dan panjang 24 cm adalah....
 - 18 cm
 - 19 cm
 - 20 cm
 - 21 cm

B. LETAKKAN UNSUR-UNSUR SEGIEMPAT BERIKUT PADA KOLOM YANG SESUAI



163 cm²

26 cm

153 cm²

52 cm

Keliling Persegi panjang



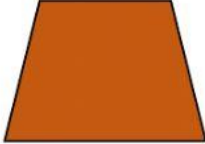
Luas Persegi panjang



C. Tariklah garis pada kotak yang memuat jawaban yang benar!



TRAPESIUM




LAYANG-LAYANG



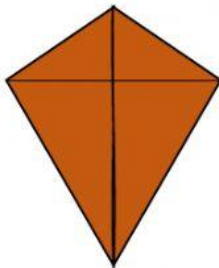
BELAH KETUPAT



PERSEGI PANJANG



PERSEGI



JAJARGENJANG