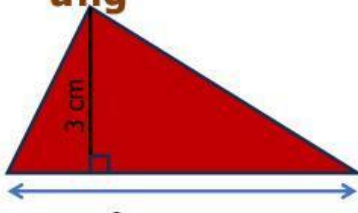


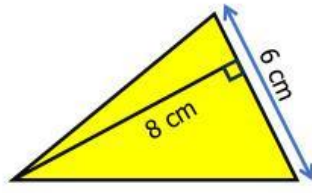
Bài 1: Nối số đo diện tích với hình tam giác có kích thước tương ứng

ứng

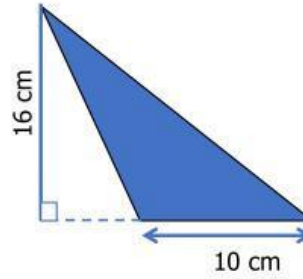


9 cm

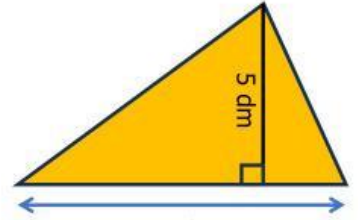
Hình 1



Hình 2



Hình 3



7 dm

Hình 4

A. 24 cm²

B. 80 cm²

C. 35 dm²

D. 13,5 cm²

E. 17,5 dm²