



Họ và tên :



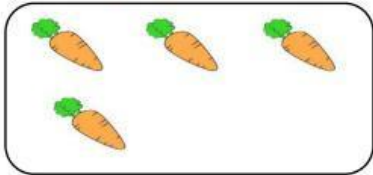
Lớp : 1A...

PHIẾU TƯ DUY - 1



Bài 1. Số ?




Bài 2:



a. Chọn bạn thỏ có **nhiều** cà rốt nhất.



b. Chọn bạn thỏ có **ít** cà rốt nhất.



Bài 3: Nối 2 nhóm để mỗi bạn thỏ có 6 củ cà rốt (theo mẫu).

