




TES ESAI

KEMAMPUAN LITERASI NUMERASI



Mata Pelajaran : Matematika | Materi : Bangun Datar

Nama : _____

Kelas : IV (Empat)

Tanggal : _____

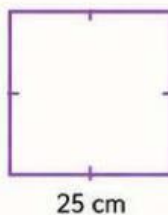
Petunjuk :

1. Bacalah setiap soal dengan teliti.
2. Tuliskan penyelesaian menggunakan langkah berikut :
Diketahui → Ditanyakan → Dijawab
3. Tuliskan jawabanmu pada tempat yang telah disediakan.
4. Periksa kembali jawabanmu sebelum dikumpulkan.



1

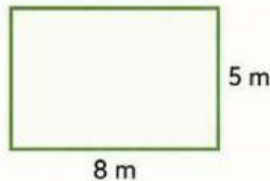
Rani akan membuat bingkai foto berbentuk persegi. Panjang setiap sisi bingkai adalah 25 cm. Hitunglah **keliling** bingkai tersebut!



Diketahui : _____
Ditanyakan : _____
Dijawab : _____

2

Ayah ingin memasang ubin berbentuk persegi panjang di teras rumah. Panjang teras 8 meter dan lebarnya 5 meter. Hitunglah **luas** teras tersebut!



Diketahui : _____
Ditanyakan : _____
Dijawab : _____

3

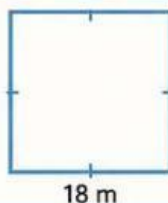
Ani memiliki karton berbentuk persegi panjang dengan panjang 12 cm dan lebar 7 cm. Jika karton tersebut akan diberi pita di sekelilingnya, berapa panjang pita yang diperlukan?



Diketahui : _____
Ditanyakan : _____
Dijawab : _____

4

Pak Budi mempunyai taman berbentuk persegi. Panjang sisi taman adalah 18 meter. Hitunglah **luas** taman tersebut.



Diketahui : _____
Ditanyakan : _____
Dijawab : _____

5

Sebuah lapangan berbentuk persegi panjang mempunyai panjang 15 meter dan lebar 10 meter. Di sekeliling lapangan akan dipasang pagar. Berapa meter panjang pagar yang dibutuhkan?



Diketahui : _____
Ditanyakan : _____
Dijawab : _____
