








## பயிற்சி செய்வோமா

வடிவங்களை உற்றுநோக்கி அட்டவணையை நிரப்புக.

வடிவங்கள்	முகங்களின் எண்ணிக்கை		விளிம்புகளின் எண்ணிக்கை		மூலைகளின் எண்ணிக்கை
	தட்டையானது	வளைவானது	நேரானது	வளைவானது	
	6	—	12	—	8
					
					
					
					



## பயிற்சி செய்வோமா

கண்டறிந்து பொருத்துக.

எனக்கு விளிம்புகளும்  
மூலைகளும் இல்லை.



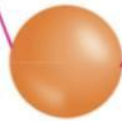
உருளை

எனக்கு 6 தட்டையான  
முகங்களும் 12 நேர்  
விளிம்புகளும் உள்ளன.



கோளம்

எனக்கு 2 வளைவான  
விளிம்புகள் உள்ளன.



கனசெவ்வகம்

எனக்கு ஒரே ஒரு மூலை  
மட்டும் உள்ளது.



கூம்பு