

# LKPD

## FUNGSI DAN ORGAN PERNAFASAN

Perhatikan video berikut ini :



Perhatikan materi presentasi berikut ini :



# LKPD

## FUNGSI DAN ORGAN PERNAFASAN



Materi

1

### TEKSFIELD

sistem pernafasan manusia berjalan jika salah satu organ pernafasan berjalan dengan

2

### SINGLE CHOICE

Berikut ini yang bukan organ pernafasan....

3

### CHECKBOXES

Penyataan yang benar adalah....

Hidung untuk bernafas  hidung untuk mendengar.  Paru paru adalah organ pernafasan

# LKPD

## FUNGSI DAN ORGAN PERNAFASAN

4

### SELECT

Pilih nama organ pernafasan yang sesuai dengan gambar di bawah ini....



hidung

paru paru

bronkiolus

trakea

5

### WORD SEARCH

Temukan kata pada kotak di bawah ini

P	A	R	U	H
M	U	L	I	I
O	S	D	K	D
D	K	C	U	D
U	G	X	M	T

# LKPD

## FUNGSI DAN ORGAN PERNAFASAN

6

### SPEAK

Sebutkan nama organ pernafasan manusia yaitu hidung



7

### LISTENING

Dengarkan suara berikut dan tuliskan jawabannya dengan tepat.



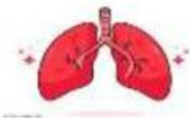
# LKPD

## FUNGSI DAN ORGAN PERNAFASAN

8

### DRAG & DROP

Tentukan nama organ pernafasan yang sesuai dengan gambar



HIDUNG

PARU PARU

TRAKEA

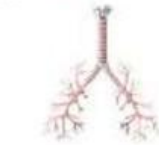
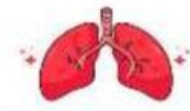
# LKPD

## FUNGSI DAN ORGAN PERNAFASAN

9

### JOIN

Buatlah garis ke jawaban yang benar



TRAKEA

HIDUNG

PARU PARU