

Nama: \_\_\_\_\_

Kelas: 2 \_\_\_\_\_

Presensi: \_\_\_\_\_

### LATIHAN SOAL MATEMATIKA MATERI BANGU RUANG

A. Perhatikan benda-benda di bawah!











Pilihan jawaban (tarik dan geser ke kotak yang sesuai di atas yang sesuai dengan gambar)!

Bola

Balok

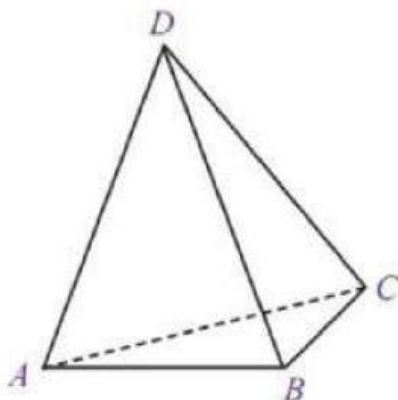
Kerucut

Tabung

Prisma segitiga

Kubus

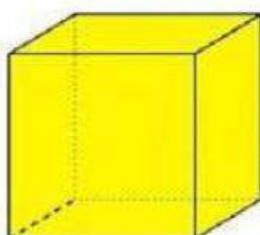
B. Perhatikan gambar di bawah ini dan tuliskan nama semua rusuk (ruas garis) dari bangun ruang di bawah ini!



Jawab, pisahkan setiap rusuk dengan tanda koma (,)

C. Perhatikan gambar dan tentukan jumlah semua sisi, rusuk dan titik sudutnya!

1.

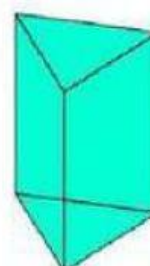


Sisi =

Rusuk =

Titik sudut =

2.



Sisi =

Rusuk =

Titik sudut =