

LEMBAR KERJA PESERTA DIDIK

BILANGAN BULAT



Tujuan Pembelajaran

1. Menentukan letak bilangan bulat pada garis bilangan.
2. Dapat menyelesaikan operasi penjumlahan dan pengurangan bilangan bulat menggunakan garis bilangan

KELOMPOK :


.....

.....

.....

.....

Bilangan Bulat



A. Peningat

Bilangan bulat adalah himpunan bilangan yang terdiri dari bilangan positif, bilangan negatif, dan nol.

Bilangan bulat dapat ditulis sebagai:

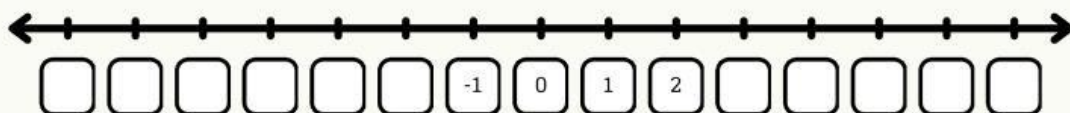
..., -5, -4, -3, -2, -1, 0, 1, 2, 3, 4, 5,

- Bilangan Positif: Bilangan yang lebih besar dari nol (1, 2, 3, ...)
- Bilangan Negatif: Bilangan yang lebih kecil dari nol (-1, -2, -3, ...)
- Nol (0): Tidak positif dan tidak negatif, sebagai titik tengah antara bilangan positif dan negatif.

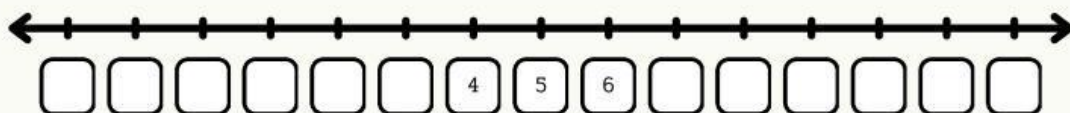


B. Soal Latihan 1

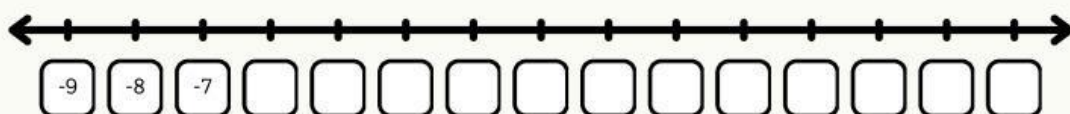
1.



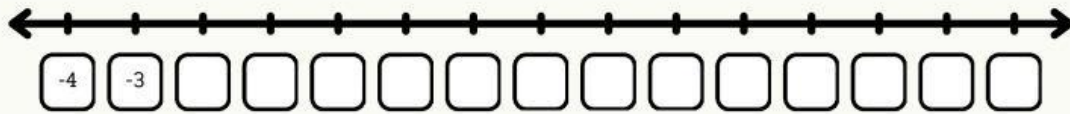
2.



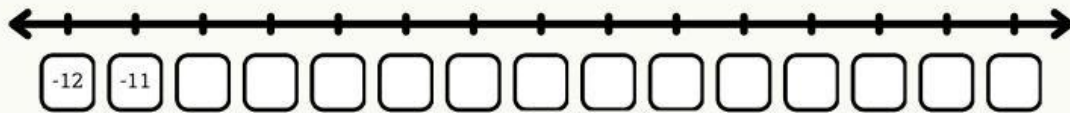
3.



4.



5.



C. Soal Latihan 2

Urutkan bilangan-bilangan berikut!

6. -9,4,6,-7,0,-4,3,1

Urutan terbesar :

Urutan terkecil :

7. -4,3,0,-1,1,4,5,9,-9,-7

Urutan terbesar :

Urutan terkecil :

8. 9,-4,-6,-7,1,0,4,3,5,-5

Urutan terbesar :

Urutan terkecil :

9. 5,-7,2,-4,-9,0,6,-3,5,7

Urutan terbesar :

Urutan terkecil :

10. 11,-2,-5,6,3,9,-8,7,8,-10,0,1

Urutan terbesar :

Urutan terkecil :

