



LKPD

TUMBUHAN

Perhatikan video berikut ini :



Perhatikan Materi presentasi berikut ini :



ú»LIVEWORKSHEETS

LKPD

TUMBUHAN

1 TEKSFIELD

Tumbuhan hijau membuat makanan sendiri melalui proses....

2 SINGLE CHOICE

Zat hijau daun disebut....

3 CHECKBOXES

Pilih tumbuhan yang berkembang biak dengan biji!

Jagung

pisang

Tebu

4 SELECT

Dibawah ini merupakan proses pada tumbuhan yang di sebut...

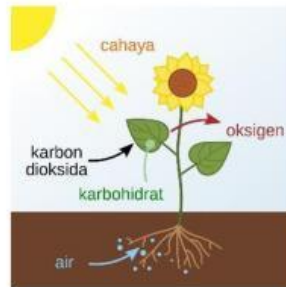
LKPD

TUMBUHAN

Mencangkok

Fotosintesis

Penyerbukan



5 WORD SEARCH

Temukan 5 kata pada kotak di bawah ini!

B	I	J	I	D
P	I	A	O	A
K	C	H	L	U
S	T	E	K	N
T	E	B	U	Q

6 SPEAK

Sebutkan nama bagian dari tumbuhan berikut dengan tepat!



LKPD

TUMBUHAN

7 LISTENING

Dengarkan suara berikut dan tuliskan jawabannya dengan tepat!




LKPD

TUMBUHAN

8

DRAG & DROP


Tentukan jenis perkembang biakan secara vegetatif buatan pada gambar di bawah ini!



Okulasi



Stek



Cangkok

LKPD

BANGUN DATAR

9

JOIN

Buatlah garis ke jawaban yang benar!



Daun



Batang



Akar

ú»LIVEWORKSHEETS