


LPKD SISTEM INDERA MANUSIA

3 CHARACTER



PERHATIKAN VIDEO
BERIKUT



Aktivitas 1

Aktivitas 2

TULISKAN JAWABAN MU

TULISKAN PREDIKSI
SINGKAT ANDA

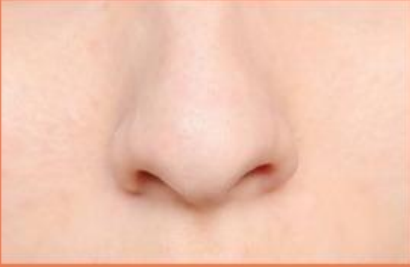
APAKAH MATA
MEMANCARKAN CAHAYA?

APAKAH LIDAH PUNYA ZONA
RASA?

APAKAH HIDUNG HANYA
UNTUK BERNAPAS?



PASANGKAN DENGAN KATA KUNCI YANG TEPAT



. ORGAN INI MEMASTIKAN UDARA YANG MASUK KE PARU-PARU BERSIH, HANGAT, DAN LEMBAP.

UNTUK MENANGKAP SUARA DAN SEBAGAI ORGAN KESEIMBANGAN TUBUH

ORGAN VITAL INI MENANGKAP CAHAYA DARI LINGKUNGAN, MEMFOKUSKANNYA, DAN MENGUBAHNYA MENJADI SINYAL VISUAL YANG DIPROSES OLEH OTAK

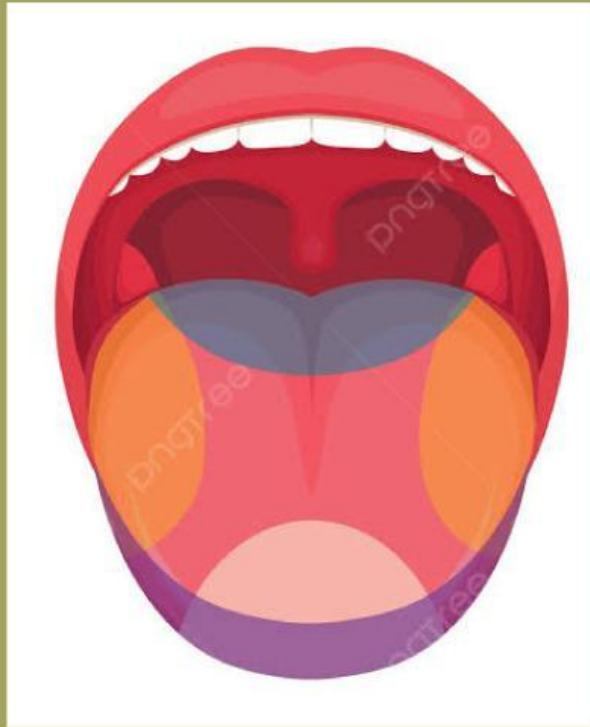
PASANGKAN DENGAN TITIK YANG SESUAI

ASAM

ANINDYA SALSABILLA

MANIS

ANINDYA SALSABILLA



PAHIT


ANINDYA SALSABILLA

ASIN

ANINDYA SALSABILLA

AKTIVITAS INVESTIGASI

Amati benda di tempat terang dan agak redup dengan bantuan senter. Tuliskan hasil pengamatanmu. Berdasarkan pengamatan tersebut, jelaskan mengapa mata bisa melihat benda.



REFLEKSI

sampai jumpa !

1. Sebutkan satu miskonsepsi yang berubah dan bukti yang membuatmu berubah
2. Bagaimana kamu memeriksa klaim ilmiah di masa depan
3. Tuliskan satu tindakan keselamatan untuk telinga.

