



LKPD

BANGUN DATAR

Perhatikan Video berikut ini



Perhatikan materi presentasi berikut ini





LKPD²

BANGUN DATAR

1.

TEKSFIELD

Bangun datar segi empat yang keempat sisinya sama Panjang dan keempat sudutnya siku-siku atau 90 adalah....

2.

SINGLE CHOISE

Berikut ini yang bukan merupakan bangun datar Adalah.....

3.

CHECKBOXES

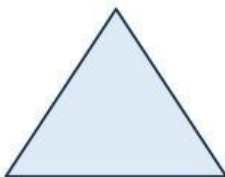
Pertanyaan yang benar Adalah.....

Persegi memilih 4 sisi lingkaran memiliki 6 sisi Segitiga memiliki 3 sisi

4.

SELECT

Nama bangun datar dibawah ini Adalah.....



Persegi Segitiga
 Persegi Panjang Lingkaran



LKPD³

BANGUN DATAR

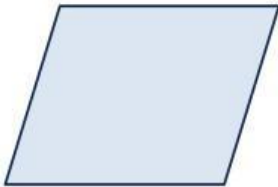
5. WORD SEARCH

Temukan 3 kata pada bentuk dibawah ini

S	S	I	S	I
M	U	L	I	N
O	S	D	K	T
O	K	C	U	K
U	G	K	M	T

6. SPEAK

Sebutkan nama bangun datar berikut dengan benar!



7. LISTENING

Dengarkan suara berikut dan Tuliskan jawaban dengan tepat!





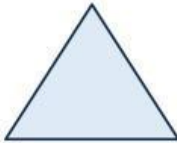

LKPD⁴

BANGUN DATAR

8

DRAG & DROP

Tentukan rumus yang sesuai dengan gambar



$$l = \frac{1}{2} \times \text{alas} \times \text{tinggi}$$

$$L = \text{panjang} \times \text{lebar}$$

$$L = \pi \times r \times r$$



LKPD⁵

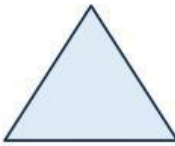
BANGUN DATAR

9. JOIN

Buatlah garis kejawaban yang benar



Persegi Panjang



Lingkaran



Segitiga



LKPD⁶

BANGUN DATAR