

Beri tanda centang ✓
pada jawaban yang benar!

1. Berapa jumlah apel di bawah ini?



A. 3

B. 4

C. 5

D. 6

2. Berapa jumlah stroberi di bawah ini?



A. 3

B. 4

C. 5

D. 6

3. Berapa jumlah wortel di bawah ini?





A. 4

B. 5

C. 6

D. 7

Isilah kotak kosong
dibawah ini dengan tepat!

1.  -  = ikan
5 ikan dikurang 2 ikan =

2.  -  = bintang laut
7 bintang laut ditambah 3 bintang laut =

3.  -  = kura-kura
6 kura-kura dikurang 3 kura-kura =

4.  +  = kerang
3 kerang ditambah 2 kerang =

Isilah puzzle yang kosong!

1.

$$2 + \text{puzzle} = 10$$

$$10 - \text{puzzle} = 5$$

2.

$$7 - \text{puzzle} = 3$$

$$\text{puzzle} + 3 = 9$$

Tarik garis untuk menjodohkan soal dengan jawaban yang tepat! (jangan keliru)

1. $5 + 5$ •

• 20

2. $8 - 3$ •

• 11

3. $7 + 6$ •

• 13

4. $15 - 5$ •

• 10

5. $9 + 2$ •

• 5

Berilah tanda centang ✓
untuk jawaban dari soal!

BENAR ✓

SALAH ✗

1.  +  = $6 \text{ apel} + 2 \text{ apel}$
= 8 apel

2.  +  = $5 \text{ stroberi} + 3 \text{ stroberi}$
= 6 stroberi

3.  +  = $6 \text{ ikan} + 2 \text{ ikan}$
= 9 ikan

4.  +  = $7 \text{ wortel} + 1 \text{ wortel}$
= 8 wortel

Berikan jawaban yang benar dengan
tanda centang ✓

6. Siti memiliki 6 wortel.
Ia memberikan 2 wortel
kepada temannya.
Berapa sisa wortel Siti?



$$6 - 2 = ?$$

Berilah centang (✓) pada jawaban yang benar!


2
wortel

3
wortel

4
wortel

5
wortel

Simak vidio dibawah ini hingga selesai dan isilah
banyaknya jeruk, apel, dan stoberinya di kolom
yang disediakan!



1. Budi mempunyai 8 kelereng. Kemudian ia diberi 4 kelereng lagi oleh ayah. Berapa banyak kelereng Budi sekarang?



Berilah centang (✓) pada jawaban yang benar!

- | | |
|--------------------------------------|--------------------------------------|
| <input type="checkbox"/> 10 kelereng | <input type="checkbox"/> 12 kelereng |
| <input type="checkbox"/> 11 kelereng | <input type="checkbox"/> 13 kelereng |

2. Siti mempunyai 12 permen. Ia memberikan 5 permen kepada adiknya. Berapa sisa permen Siti?



Berilah centang (✓) pada jawaban yang benar!

- | | |
|-----------------------------------|-----------------------------------|
| <input type="checkbox"/> 5 permen | <input type="checkbox"/> 7 permen |
| <input type="checkbox"/> 6 permen | <input type="checkbox"/> 8 permen |