

LKPD MATEMATIKA

KELAS V SD/MI



Nama:

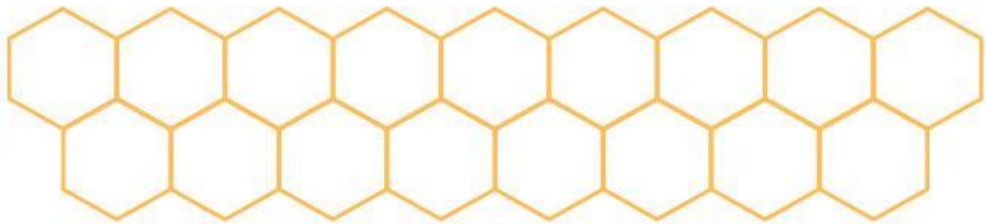
Kelas:
 **LIVEWORKSHEETS**

Nama :

Kelas :

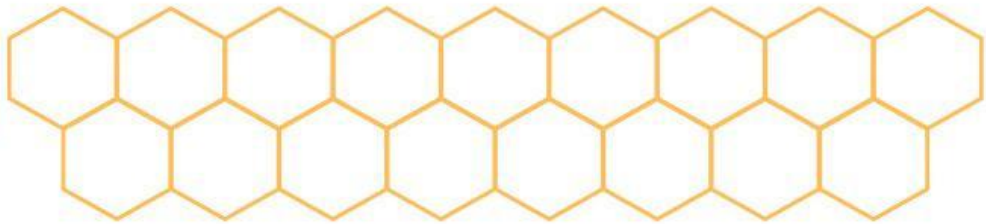
KELIPATAN PERSEKUTUAN

Hitunglah kelipatan angka-angka berikut ini kemudian tentukan kelipatan persekutuan yang bernilai sama!



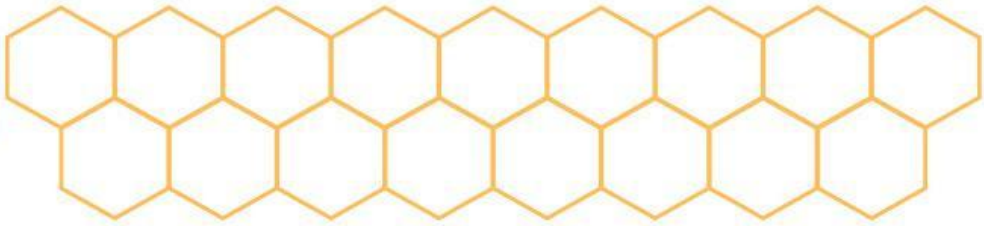
Kelipatan persekutuan adalah _____

Kelipatan persekutuan terkecil adalah _____



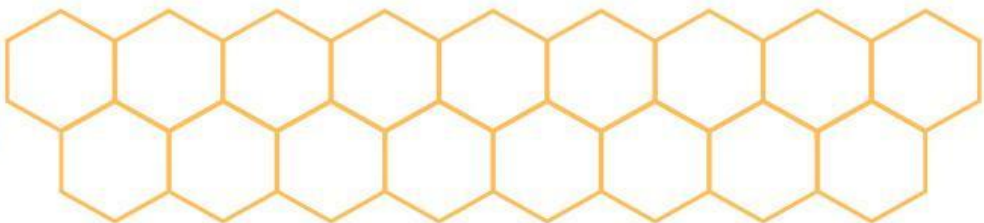
Kelipatan persekutuan adalah _____

Kelipatan persekutuan terkecil adalah _____



Kelipatan persekutuan adalah _____

Kelipatan persekutuan terkecil adalah _____



Kelipatan persekutuan adalah _____

Kelipatan persekutuan terkecil adalah _____

PILIHAN GANDA

Tandai dengan (X) pada huruf a, b, c, atau d untuk jawaban yang tepat!

1. Kelipatan persekutuan dari 3 dan 4 adalah
A. 3, 6, 9
B. 8, 12, 16
C. 12, 24, 36
D. 6, 9, 12
2. Kelipatan persekutuan terkecil dari 2 dan 5 adalah
A. 5
B. 10
C. 15
D. 20
3. Bilangan yang termasuk kelipatan 6 dan juga kelipatan 9 adalah
A. 12
B. 18
C. 24
D. 27
4. KPK dari 4 dan 6 adalah
A. 8
B. 10
C. 12
D. 24
5. Bilangan yang merupakan kelipatan persekutuan 3 dan 5 hingga 30 adalah ...
A. 10, 15, 20
B. 15, 30
C. 5, 10, 15
D. 20, 25



URAIAN

Silakan jawab pertanyaan di bawah ini dengan jawaban yang tepat!

1. Sebutkan pengertian kelipatan persekutuan!

2. Sebutkan tiga bilangan kelipatan persekutuan dari 2 dan 3!

3. Tentukan KPK dari 3 dan 5 dengan cara menuliskan kelipatannya.

4. Mengapa kita perlu mencari KPK dalam kehidupan sehari-hari?

5. Tentukan kelipatan persekutuan dari 4 dan 8 hingga 40!



Nama:

Kelas:

Kelipatan Persekutuan Terkecil

Kerjakan soal-soal berikut dengan teliti, tuliskan hasil perhitungannya di tempat yang tersedia!

Soal Cerita



Rina minum vitamin 8 hari sekali, sedangkan Sinta setiap 12 hari sekali. Berapa hari lagi mereka akan minum vitamin bersama?



Pak Andi senam pagi setiap 10 hari sekali, sedangkan Bu Ani senam setiap 15 hari sekali. Berapa hari sekali mereka akan senam bersama?



Siswa kelas 5 jogging: kelompok A setiap 6 hari sekali, kelompok B setiap 9 hari sekali. Dalam berapa kali sekali mereka jogging bersama?



Rafi berolahraga bulutangkis setiap 12 hari sekali, sedangkan Dani setiap 18 hari sekali. Berapa hari sekali mereka akan bermain bersama?



Doni bersepeda setiap 3 hari sekali, sedangkan Fajar bersepeda setiap 4 hari sekali. Dalam berapa hari mereka akan bersepeda bersama lagi?

Jawaban

