

ชื่อ _____ ชื่อเล่น _____ เลขที่ _____

ใบงานที่ 2

เรื่อง การแยกตัวประกอบของจำนวนนับ

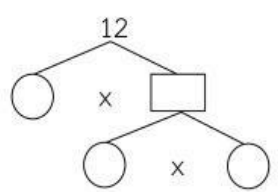
วิชาคณิตศาสตร์

ประถมศึกษาปีที่ 6

คำชี้แจง แสดงการแยกตัวประกอบของจำนวนนับโดยใช้การคูณ

1) 12

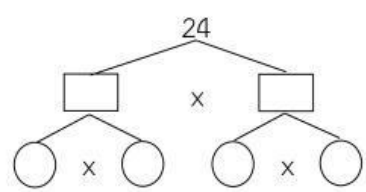
วิธีทำ



ดังนั้น $12 = \dots \times \dots \times \dots$

2) 24

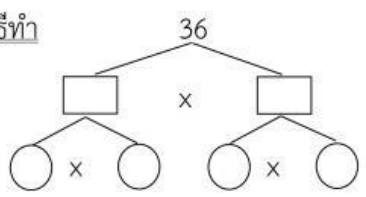
วิธีทำ



ดังนั้น $24 = \dots \times \dots \times \dots \times \dots$

3) 36

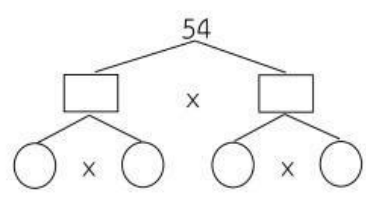
วิธีทำ



ดังนั้น $36 = \dots \times \dots \times \dots \times \dots$

4) 54

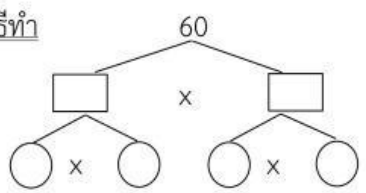
วิธีทำ



ดังนั้น $54 = \dots \times \dots \times \dots \times \dots$

5) 60

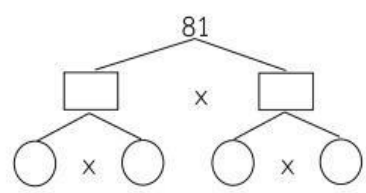
วิธีทำ



ดังนั้น $60 = \dots \times \dots \times \dots \times \dots$

6) 81

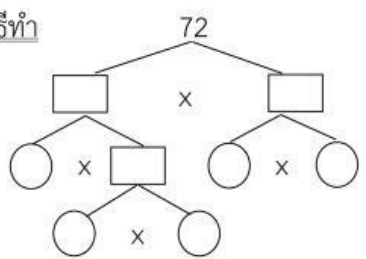
วิธีทำ



ดังนั้น $81 = \dots \times \dots \times \dots \times \dots$

7) 72

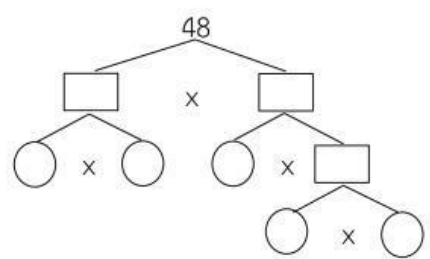
วิธีทำ



ดังนั้น $72 = \dots \times \dots \times \dots \times \dots \times \dots$

8) 48

วิธีทำ



ดังนั้น $48 = \dots \times \dots \times \dots \times \dots \times \dots$