

1.

+	4	5	K
9			
L		x	19
12			y

$$\Rightarrow x + y = ?$$

- A) 32    B) 33    C) 34    D) 35    E) 36

2.

+	a	b	c	d
a				f
b			e	
c		g		
d	h			

$$f + g = 12 \Rightarrow e + h = ?$$

- A) 6    B) 8    C) 10    D) 12    E) 14

3.

+	a	b	c
a	b		
b			13
c	9		

$$\Rightarrow c = ?$$

- A) 5    B) 4    C) 3    D) 2    E) 1

7.

+	a	b	c
a	b		
b		$a^2$	15
c			

$$\Rightarrow c = ?$$

- A) 5    B) 6    C) 7    D) 8    E) 9

8.

+	a	b	c
a		18	
b			22
c	34		

$$\Rightarrow a + b + c = ?$$

- A) 35    B) 36    C) 37    D) 38    E) 39

9.

+	a	b	c
a		12	
b			
c	16	18	

$$\Rightarrow c - b = ?$$

- A) 2    B) 3    C) 4    D) 5    E) 6

4.

+	a	b	c
a		17	
b			15
c	16		

$$\Rightarrow a + b + c = ?$$

- A) 20    B) 22    C) 24    D) 26    E) 28

5.

+	a	b	c
a			7
b	5		
c			

$$\Rightarrow c - b = ?$$

- A) -1    B) 0    C) 1    D) 2    E) 3

6.

+	a	b	c
a		6	
b			8
c	10		

$$\Rightarrow \frac{c+b}{a} = ?$$

- A) 2    B) 3    C) 4    D) 5    E) 6

10.

+	a	b	c
a			18
b		36	
c			

$$\Rightarrow a + b + c = ?$$

- A) 35    B) 36    C) 37    D) 38    E) 39

11.

+	a	b	c
a			18
b		$8a$	
c			$16a$

$$\Rightarrow a - b + c = ?$$

- A) 6    B) 8    C) 10    D) 12    E) 16

12.

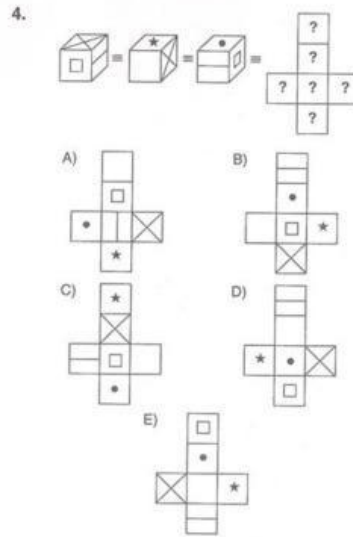
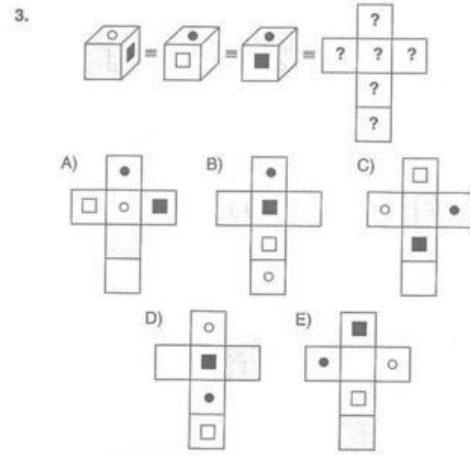
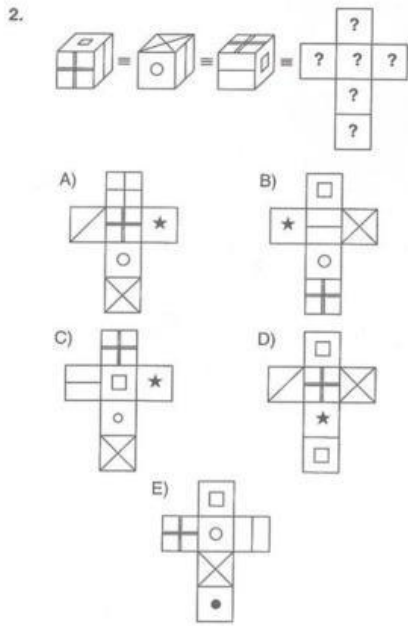
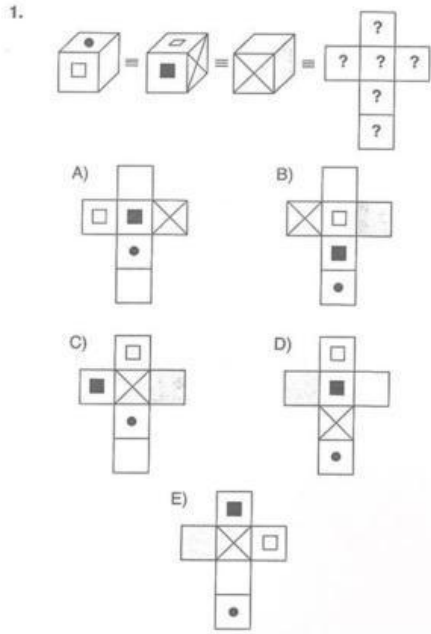
+	a	b	c
a			14
b	12		
c		16	

$$\Rightarrow a^2 = ?$$

- A) 9    B) 16    C) 25    D) 36    E) 49

METROPOL YAYINLARI • METROPOL PUBLICATIONS

METROPOL YAYINLARI • METROPOL PUBLICATIONS



OPOL PUBLICATIONS

METROPOL YAYINLARI

5.

A)

B)

C)

D)

E)

6.

A)

B)

C)

D)

E)

7.

A)

B)

C)

D)

E)

ETROPOL PUBLICATIONS

METROPOL YAYINLARI • İME

8.

A)

B)

C)

D)

E)