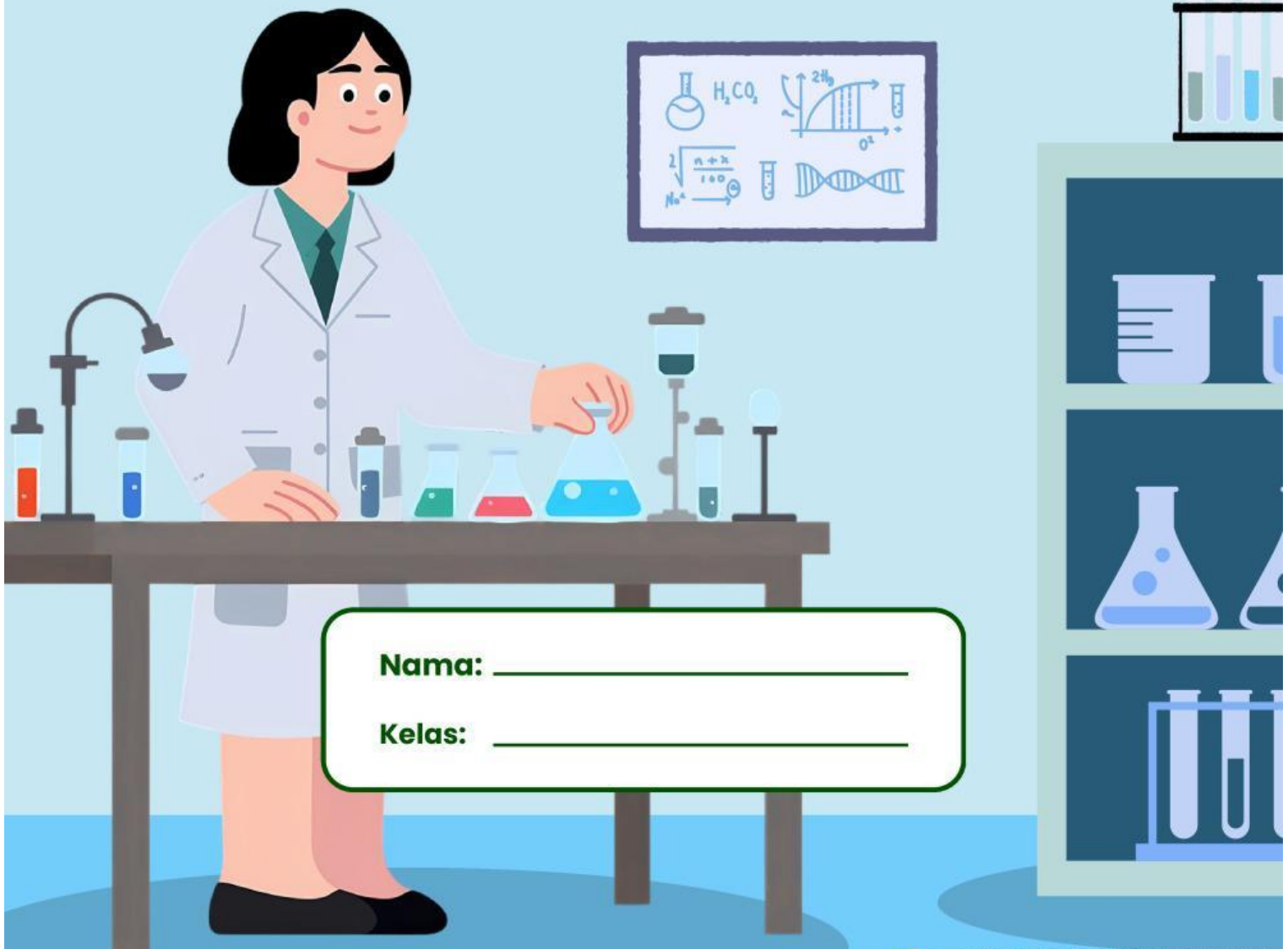


LKPD

# PERUBAHAN WUJUD BENDA

Materi IPA Kelas IV



Nama: \_\_\_\_\_

Kelas: \_\_\_\_\_

# PERUBAHAN WUJUD BENDA

Baca dengan cermat dan jawab pertanyaan di bawah ini!

1. Air yang dipanaskan di atas kompor terus-menerus dapat berubah menjadi .....



- A. Uap  
B. Es  
C. Kristal  
D. Embun

2. Benda di bawah ini yang dapat meleleh adalah .....

- A. Air  
B. kayu  
C. Kapur barus  
D. Mentega



3. Membeku merupakan perwujudan benda ... menjadi ...



- A. Gas - Cair  
B. Cair - Padat  
C. Gas - Padat  
D. Cair - Gas

# PERUBAHAN WUJUD BENDA

Bacalah pertanyaan di bawah ini, lalu jawablah pertanyaan dengan tepat!



Perubahan wujud benda cair menjadi padat disebut?

Perubahan wujud cair menjadi gas disebut?

Lilin, batu dan kayu merupakan wujud benda?

# MENJODOHKAN BENDA

Hubungkan gambar benda yang sesuai dengan cara perubahan wujudnya!



Cair  
menjadi  
Gas



Gas  
menjadi  
Padat



Cair  
menjadi  
Padat



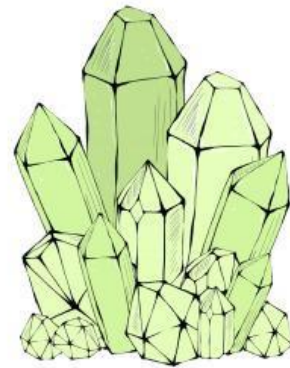

Padat  
menjadi  
Cair



Padat  
menjadi  
Gas

# MENCOCOKKAN

Kelompokkan jenis perubahan wujud benda berikut!



**gas - padat**

**cair - gas**

**padat - cair**

**cair - padat**



**TERIMA KASIH**