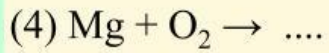
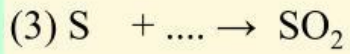
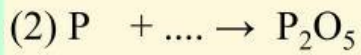
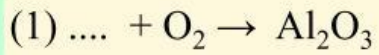


### Bài 1. Cho các sơ đồ phản ứng sau:



Hoàn thành các phương trình hoá học và đọc tên các sản phẩm tạo thành

### Bài 2. Gọi tên oxide

SO<sub>2</sub> :

P<sub>2</sub>O<sub>5</sub> :

N<sub>2</sub>O<sub>5</sub> :

CO<sub>2</sub> :

