



Kurikulum  
Merdeka

# LKPD

Lembar Kerja Peserta Didik

Nama : .....

Kelas : .....

# BELAJAR IPA

Jawablah Pertanyaan di bawah ini dengan benar!

Nama :

Kelas :

## A. Pilihan Ganda

1. Tumbuhan membuat makanannya sendiri melalui proses yang disebut ....
  - a. Pernapasan
  - b. Fotosintesis
  - c. Penguapan
  - d. Penyerapan
2. Sumber energi utama bagi kehidupan di Bumi adalah ....
  - a. Bulan
  - b. Bintang
  - c. Matahari
  - d. Angin
3. Bagian tubuh manusia yang berfungsi untuk memompa darah ke seluruh tubuh adalah ....
  - a. Paru-paru
  - b. Jantung
  - c. Hati
  - d. Lambung



Nama:

Kelas:



# MENGENAL MAKHLUK HIDUP



Jawablah Pertanyaan di bawah dengan tepat dan benar!

1. Sebutkan 3 ciri-ciri makhluk hidup dan jelaskan masing-masing!



2. Apa perbedaan antara makhluk hidup dan benda mati? Berikan masing-masing 2 contohnya!



3. Mengapa manusia, hewan, dan tumbuhan disebut makhluk hidup? Jelaskan berdasarkan ciri-ciri makhluk hidup yang mereka miliki!




# Ayo Tebak Tempat Hidup Hewan


Nama :

Kelas :


Pasangkan hewan dengan tempat hidupnya agar sesuai!



**Gurun**



**Hutan**



**Laut**



**Kutub**

# MENGELOMPOKKAN

Perhatikan gambar di bawah ini. Kelompokkan nama makhluk hidup dan benda mati berikut dengan benar dan tepat!



**Makhluk Hidup**

**Benda Mati**

Nama: .....

Tanggal: .....