

LEMBAR KERJA PESERTA DIDIK

LKPD

Mengenal Lingkungan Sekitar

PILIHAN GANDA KENAMPAKAN ALAM & BUATAN

1. Yang termasuk kenampakan alam adalah...
 - a. Bendungan
 - b. Danau
 - c. Sekolah
2. Contoh kenampakan buatan adalah...
 - a. Sungai
 - b. Gunung
 - c. Jembatan
3. Laut merupakan kenampakan alam berupa...
 - a. Kumpulan air asin yang luas
 - b. Kumpulan bangunan tinggi
 - c. Tempat menambang batu bara



MENGENAL BAGIAN- BAGIAN TUMBUHAN



Bacalah pertanyaan di bawah ini, lalu jawablah pertanyaan dengan tepat!






Akar memiliki bentuk yang runcing. Apakah manfaat bentuk tersebut bagi tumbuhan?

Apa saja perbedaan batang pohon rambutan dengan batang pohon pisang?

Bagaimana kita dapat membedakan tumbuhan monokotil dengan dikotil dari bentuk akarnya?

MARI MENJODOHKAN

Hitung jumlah kue dan buah pada setiap soal, lalu tarik garis untuk mencocokkannya dengan hasil yang sesuai!

	•	•	2
	•	•	3
	•	•	4
	•	•	5
	•	•	6

Ayo Kelompokkan Makhluk Hidup Berdasarkan Habitatnya!

Amati tabel di bawah ini dengan saksama! Kelompokkan hewan-hewan ke dalam habitat yang sesuai: darat, air, atau darat & air. Tempelkan gambar hewan pada kolom yang tepat.

Darat	Air	Air dan Darat

