

LKPD

Ilmu Pengetahuan Alam Sekolah Dasar

Kelas 4



Nama : _____

Kelas : _____



IPA TATA SURYA


Jawablah Pertanyaan di bawah ini dengan benar!

Nama :

Kelas :

A. Pilihan Ganda

1. Planet yang kita tinggali adalah
 - A. Mars
 - B. Venus
 - C. Bumi
 - D. Jupiter
2. Planet yang paling dekat dengan Matahari adalah....
 - A. Venus
 - B. Merkurius
 - C. Mars
 - D. Saturnus
3. Planet terbesar dalam tata surya adalah
 - A. Saturnus
 - B. Bumi
 - C. Jupiter
 - D. Venus



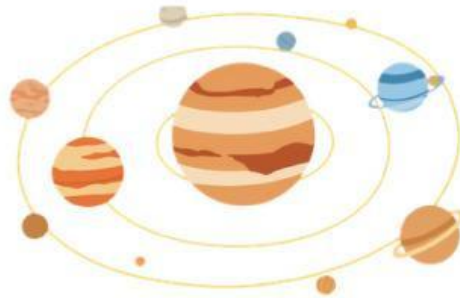
Nilai

Nama :

Kelas :

TATA SURYA

Jawab soal easy ini dengan tepat



1 Apa yang dimaksud dengan planet?

2 Sebutkan nama-nama planet yang ada dalam tata surya!

3 Mengapa Bumi disebut sebagai planet yang dapat dihuni makhluk hidup?

Nilai

Ayo Tebak Planet Planet Tata Surya

Nama :

Kelas :

Pasangkan gambar planet planet tersebut
sesuai dengan namanya



Bumi



Saturnus



Mars



Jupiter



Uranus

Nilai


CIRI-CIRI PLANET

Kelompokkan ciri-ciri planet tersebut


Nama :

Kelas :

Bumi



Saturnus



Nilai