



# ใบกิจกรรม

วิชาวิทยาการคำนวณ


ป.4


ชื่อ..... ชั้น ..... เลขที่ .....


เรื่อง วิธีการแก้ปัญหาโดยใช้เหตุผลเชิงตรรกะ

คำชี้แจง : ให้นักเรียนพิจารณารูปแบบต่อไปนี้ แล้วเติมคำตอบ A , B , C ลงในช่องที่กำหนดให้ถูกต้อง


1. 


A 


B 

C 

2. 

A 

B 

C 

3. 

A 3b 24

B 13 47


C 24 3b


4. 


A b 3


B 3 b

C 7 8

5. \_\_\_\_\_ 

A 

B 

C 



# ใบกิจกรรม

วิชาวิทยาการคำนวณ

ป.4

6. \_\_\_\_\_ ★ ▼ ★ ▲ \_\_\_\_\_

A	★ ▼
B	▼ ▼
C	★ ▲

7. \_\_\_\_\_ \_\_\_\_\_

A	
B	
C	

8. \_\_\_\_\_ \_\_\_\_\_

A	
B	
C	

9. \_\_\_\_\_ \_\_\_\_\_

A	
B	
C	

10. \_\_\_\_\_ \_\_\_\_\_ 27 36 45

A	9 17
B	9 18
C	3 9