


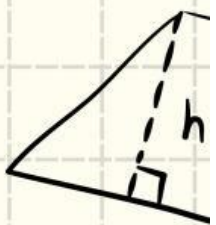
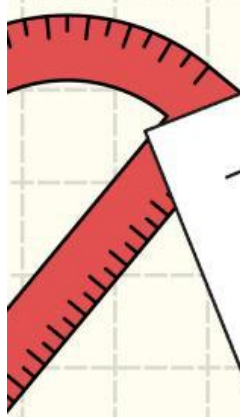
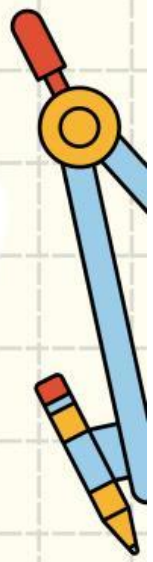
$$ax^2 + bx + c = 0$$




$$A = \sqrt{a^2 + a^2}$$

LKPD

Matematika



$$A =$$



Kelas

3

Nama: _____

Kelas: _____

SOAL PILIHAN GANDA

Nama

Kelas

Kerjakan dan pilih jawaban yang paling benar.

- 01 Hasil dari $25 + 17$ adalah ...
- A. 32 C. 45
B. 42 D. 50
- 02 Adi memiliki 32 kelereng. Ia membeli lagi 27 kelereng di toko. Jumlah kelereng adi menjadi...
- A. 57 C. 59
B. 58 D. 6
- 03 Ibu membeli 15 apel. Kemudian dimakan 4 apel. Sisa apel adalah ...
- A. 9 C. 11
B. 10 D. 12



SOAL ESAY

NAMA :

KELAS :



PETUNJUK :

Bacalah setiap soal dengan saksama. Tulis jawaban yang benar di kotak.



Sarah memetik 7 buah apel. Kakaknya memberinya 5 buah apel lagi. Berapa banyak apel yang dimilikinya sekarang?



Ada 20 siswa di dalam bus. 8 siswa turun. Berapa banyak siswa yang tersisa di dalam bus?













Emma memiliki 3 ekor anjing. Ia memberikan 4 camilan untuk setiap anjing. Berapa banyak camilan yang ia berikan secara total?

Nama: _____ Kelas: _____

MARI MENJODOHKAN

Hitung jumlah kue dan buah pada setiap soal, lalu tarik garis untuk mencocokkannya dengan hasil yang sesuai!

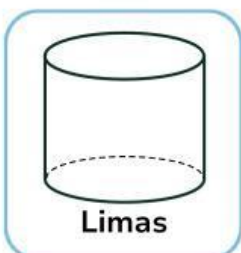
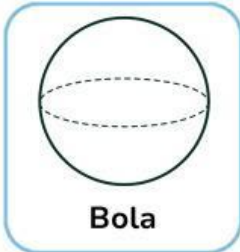
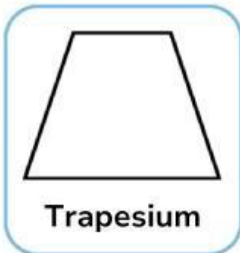
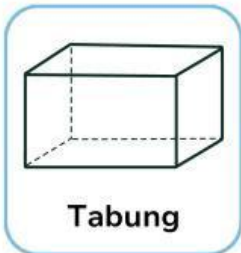
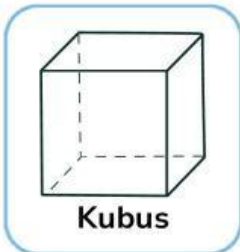
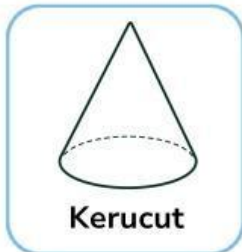
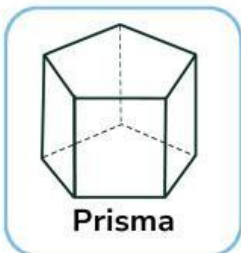


Nama: _____

Kelas: _____

MENGELOMPOKKAN BANGUN DATAR DAN RUANG

Tuliskan mana saja yang termasuk bangun ruang dan datar.



Bangun Datar

- 1 _____
- 2 _____
- 3 _____
- 4 _____
- 5 _____
- 6 _____

Bangun Ruang

- 1 _____
- 2 _____
- 3 _____
- 4 _____
- 5 _____
- 6 _____