


Lembar Kerja Peserta Didik

LKPD

CIRI & SIFAT BANGUN RUANG

Nama : _____

Kelas : _____



Nama: _____

Tanggal: _____

Penjumlahan dengan Cerita Sederhana



Arahan!

Bacalah soal cerita berikut ini dengan teliti. Berilah tanda silang pada jawaban yang benar!

1

Lia memetik 1 bunga, lalu Nenek memberinya 6 bunga. Berapa jumlah bunga Lia sekarang?

A. 8 bunga

B. 7 bunga

C. 5 bunga

2

Pada bunga terdapat 2 kupu-kupu yang hinggap, lalu datang 3 kupu-kupu lagi. Ada berapa kupu-kupu sekarang?

A. 3 kupu-kupu

B. 4 kupu-kupu

C. 5 kupu-kupu

3

Sita menabung 7 koin hari ini. Kemarin ia menabung 3 koin. Berapa jumlah koin yang ditabung Sisi?







A. 10 koin

B. 8 koin

C. 4 koin

Nama: _____ Nama: _____ Tanggal: / /

Hitung setiap hewan dalam kotak,
kemudian tarik garis jawaban angka yang benar!

	•	•	5
	•	•	3
	•	•	1
	•	•	6
	•	•	2
	•	•	4

BELAJAR MATEMATIKA

Nama: _____

Kelas: _____



Panduan

Bacalah setiap soal dengan teliti, lalu jawab dengan benar!

1. $1 + 1 =$

2. Ani beli balon 5 ditambah punya Jodi 5. Jadi balon punya Ani dan Jodi berapa?

3. $5 \times 5 =$

4. $5 \times 20 =$

5. $10 + 20 =$

Nama:

Tanggal:

Habitat Hewan

Gunting gambar hewan dan tempelkan pada kelompok yang sesuai

3

5

