

Lembar Kerja Peserta Didik


# LKPD

MATEMATIKA



Nama :

Kelas :



Nama: \_\_\_\_\_

Tanggal: \_\_\_\_\_

# Pengurangan dengan Cerita Sederhana



## Arahan!

Bacalah soal cerita berikut ini dengan teliti. Berilah tanda silang pada jawaban yang benar!

1

Lala memiliki 6 jepit rambut. 3 jepit rambut patah dan tidak bisa dipakai lagi. Berapa sisa jepit rambut Lala yang masih bagus?

A. 3 jepit rambut

B. 2 jepit rambut

C. 5 jepit rambut

2

Pada pohon mangga terdapat 10 buah mangga. Paman memetikanya sebanyak 5 buah. Berapa sisa buah mangga di pohon sekarang?

A. 3 mangga

B. 4 mangga

C. 5 mangga

3

Pada awalnya Tio memiliki 10 kelereng. Lalu 6 kelereng hilang. Berapa sisa kelereng yang dimiliki Tio sekarang?

A. 7 kelereng

B. 8 kelereng

C. 4 kelereng

Nama:

No. Presensi:

# ISIAN

Perhatikan pertanyaan di bawah ini, kemudian jawab dengan benar!

1. Hasil dari  $2+6$  adalah....

Jawab: \_\_\_\_\_  
\_\_\_\_\_

2. Hasil dari  $10-8$  adalah....

Jawab: \_\_\_\_\_  
\_\_\_\_\_

3. Hasil dari  $5 \times 10$  adalah...

Jawab: \_\_\_\_\_  
\_\_\_\_\_

Nama: \_\_\_\_\_ Nama: \_\_\_\_\_ Tanggal: / /

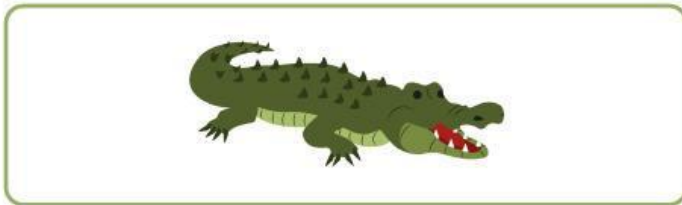
Hitung setiap hewan dalam kotak,  
kemudian tarik garis jawaban angka yang benar!



•

•

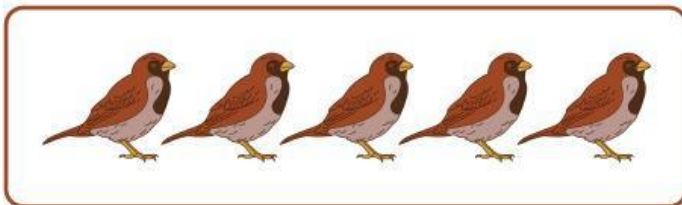
5



•

•

3



•

•

1



•

•

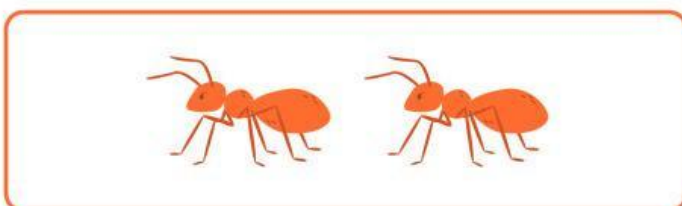
6



•

•

2



•

•

4

Nama : \_\_\_\_\_

Kelas : \_\_\_\_\_

# BANGUN DATAR

Gunting dan kelompokkanlah bangun datar di bawah ini!



