

NAMA : \_\_\_\_\_

KELAS : \_\_\_\_\_

# Mengenal Satuan Panjang

Tuliskan kepanjangan dari setiap singkatan satuan panjang berikut!

km

= \_\_\_\_\_

hm

= \_\_\_\_\_

dam

= \_\_\_\_\_

m

= \_\_\_\_\_

dm

= \_\_\_\_\_

cm

= \_\_\_\_\_

mm

= \_\_\_\_\_

NAMA : \_\_\_\_\_

KELAS : \_\_\_\_\_

# Satuan Panjang

Hubungkan dengan satuan yang tepat!



Jarak antar kota

cm



Ketebalan kertas

mm



Tinggi pintu

km



Panjang Pensil

m

NAMA : \_\_\_\_\_

KELAS : \_\_\_\_\_

# Konversi Satuan Panjang



Ubah satuan panjang berikut ke satuan panjang yang diminta!



Ingat tangga satuan panjang!

1. 5 cm =  mm

2. 80 mm =  cm

3. 4 m =  cm

4. 3 m =  mm

5. 700 cm =  m

6. 2 km =  m

NAMA : \_\_\_\_\_

KELAS : \_\_\_\_\_

# Konversi Satuan Panjang

Selesaikan soal cerita berikut!

1. Panjang pita Rina 250 cm.  
Berapa meter panjang pita Rina?

Jawaban :

2. Jarak rumah budi ke sekolah adalah 3 km. Berapa meter jarak dari rumah budi ke sekolah?

Jawaban :

3. Panjang meja 1,2 m. Berapa cm panjang meja tersebut?

Jawaban :

NAMA : \_\_\_\_\_

KELAS : \_\_\_\_\_

# Hitung Panjang Benda

Hitunglah jumlah kotak, lalu tuliskan panjangnya!

1.



Panjang = ..... cm

2.



Panjang = ..... cm

3.



Panjang = ..... cm

Setiap kotak mewakili 1 cm

NAMA : \_\_\_\_\_

KELAS : \_\_\_\_\_

# Pilih Jawaban Benar

Berilah tanda centang ( ✓ )  
pada jawaban yang tepat!

1.  $2 \text{ m} = \dots \text{ cm}$

20 cm    200 cm    2000 cm

2.  $1 \text{ km} = \dots \text{ m}$

100 m    1000 m    10 m

3.  $50 \text{ cm} = \dots \text{ mm}$

5 mm    50 mm    500 mm

4.  $5 \text{ dm} = \dots \text{ cm}$

50 cm    500 cm    5 cm

5.  $9 \text{ dm} = \dots \text{ mm}$

90 mm    9 mm    900 mm

NAMA : \_\_\_\_\_

KELAS : \_\_\_\_\_

# Urutkan Panjang

Urutkan benda dari yang terpendek ke yang terpanjang

1.



13 cm



10 cm

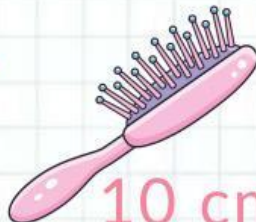


3 cm

2.



15 cm



10 cm



7 cm

3.



6 cm



4 cm



17 cm

NAMA : \_\_\_\_\_


KELAS : \_\_\_\_\_

# Soal Cerita Satuan Panjang

Bacalah soal dengan teliti,  
lalu tuliskan jawabannya!

1. Panjang pita merah adalah 80 cm. Pita biru lebih panjang daripada pita merah sejauh 25 cm. Berapa cm panjang pita biru?

Jawaban :




2. Panjang pensil adalah 17 cm. Panjang penghapus 6 cm lebih pendek daripada pensil. Berapa cm panjang penghapus?

Jawaban :



3. Panjang meja belajar Rina 120 cm. Panjang meja belajar Raka 30 cm lebih pendek daripada meja Rina. Berapa cm panjang meja Raka?

Jawaban :



NAMA : \_\_\_\_\_

KELAS : \_\_\_\_\_

# TEBAK SATUAN



Beri tanda ( ✓ ) satuan panjang yang paling tepat untuk benda berikut!



1. Sebuah jarum jahit



mm

cm

m

2. Panjang jembatan



cm

m

km

3. Tinggi pohon



km

m

cm