



# LKPD

## Matematika







Tema: Mengenal Bangun Datar

Nama: \_\_\_\_\_ Kelas: \_\_\_\_\_



## Ciri-Ciri Bangun Datar

Lengkapilah tabel di bawah ini.

Gambar	Nama	Jumlah Sisi	Jumlah Sudut
			
			
			
			
			
			



Isilah keliling dan luas bangun datar di bawah ini dengan jawaban yang tepat!

<p>5 cm</p>	Keliling: Luas:	<p>12 cm 7 cm</p>	Keliling: Luas:
✕			
<p>12 cm 5 cm 13 cm</p>	Keliling: Luas:	<p>15 cm 12 cm 9 cm</p>	Keliling: Luas:
✕			
<p>20 cm 30 cm 23 cm</p>	Keliling: Luas:	<p>21 cm</p>	Keliling: Luas:
✕			