

LKPD

Matematika

Tema: Pengukuran Panjang dan Berat

Nama: _____

Kelas: _____

Kg

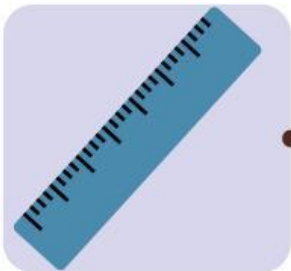


Cm



Alat Ukur

Hubungkan gambar di bawah ini dengan fungsinya yang sesuai.




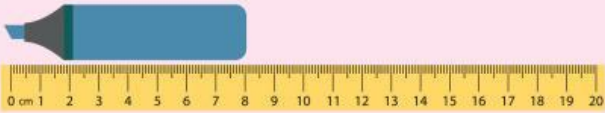





Alat Ukur Panjang

Alat Ukur Berat

Mengukur Panjang

Tuliskan panjang benda pada tabel di bawah ini.

No.	Pengukuran Panjang Benda	Panjang benda dengan satuannya.
1.		
2.		
3.		
4.		
5.		
6.		
7.		



Menghitung Berat

Hitunglah penjumlahan berat buah di bawah ini.

 $+$  $=$

 $+$  $=$

 $+$  $=$

 $+$  $=$