




LKPD

Lembar Kerja Peserta Didik

Sekolah Dasar



Nama : _____

Kelas : _____

Nama: _____

Tanggal: _____

Pengurangan dengan Cerita Sederhana



Arahan!

Bacalah soal cerita berikut ini dengan teliti. Berilah tanda silang pada jawaban yang benar!

1

Lala memiliki 6 jepit rambut. 3 jepit rambut patah dan tidak bisa dipakai lagi. Berapa sisa jepit rambut Lala yang masih bagus?

A. 3 jepit rambut

B. 2 jepit rambut

C. 5 jepit rambut

2

Pada pohon mangga terdapat 10 buah mangga. Paman memetikinya sebanyak 5 buah. Berapa sisa buah mangga di pohon sekarang?

A. 3 mangga

B. 4 mangga

C. 5 mangga

3

Pada awalnya Tio memiliki 10 kelereng. Lalu 6 kelereng hilang. Berapa sisa kelereng yang dimiliki Tio sekarang?

A. 7 kelereng

B. 8 kelereng

C. 4 kelereng

Nama: _____

Tanggal: _____

Penjumlahan dengan Cerita Sederhana



Arahan!

Bacalah soal cerita berikut ini dengan teliti. Tuliskan jawaban soal tersebut dengan menggunakan cara!



Risa memiliki 1 boneka. Lalu ia membeli 1 boneka lagi. Berapa jumlah boneka Risa sekarang?

Jawab: _____



Dara memiliki 2 balon. Lalu Kakak meniupkan 3 balon lagi. Berapa jumlah balon Dara sekarang?

Jawab: _____



Deva memiliki 8 lego. Lalu ia menemukan kembali 2 lego di tas. Berapa jumlah lego Deva sekarang?

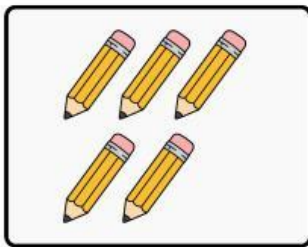
Jawab: _____

Nama :


Kelas :

Mencocokkan Jumlah Benda

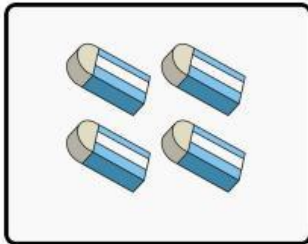
Ayo hitung dan cocokkan benda yang sama banyak!



•



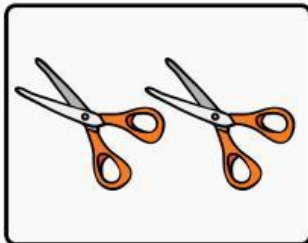
•



•



•



•




•



•



•




•



•

Nama:

Kelas:



Mengelompokkan Bangun Datar

Halo, Detektif Cilik! Di bawah ini terdapat berbagai macam bentuk bangun datar. Tugasmu adalah mengelompokkan mereka ke dalam kotak yang tepat berdasarkan jumlah sisi dan sudutnya.

Kelompok Segitiga

Kelompok Segi Empat

Kelompok Tanpa Sudut

