



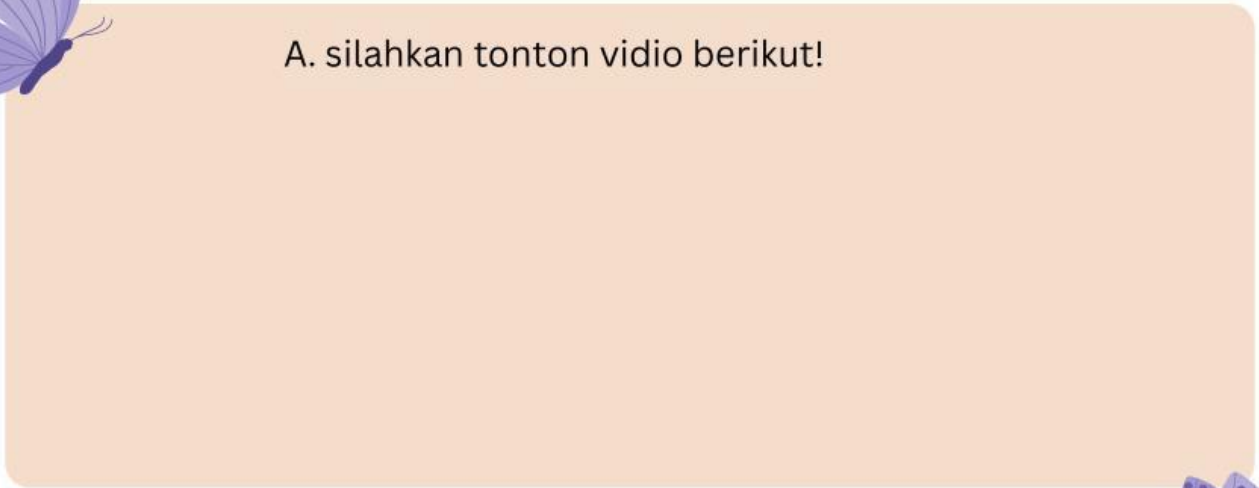
# LKPD MATEMATIKA

TEMA : MENGENAL DAN MENGHITUNG BILANGAN BULAT

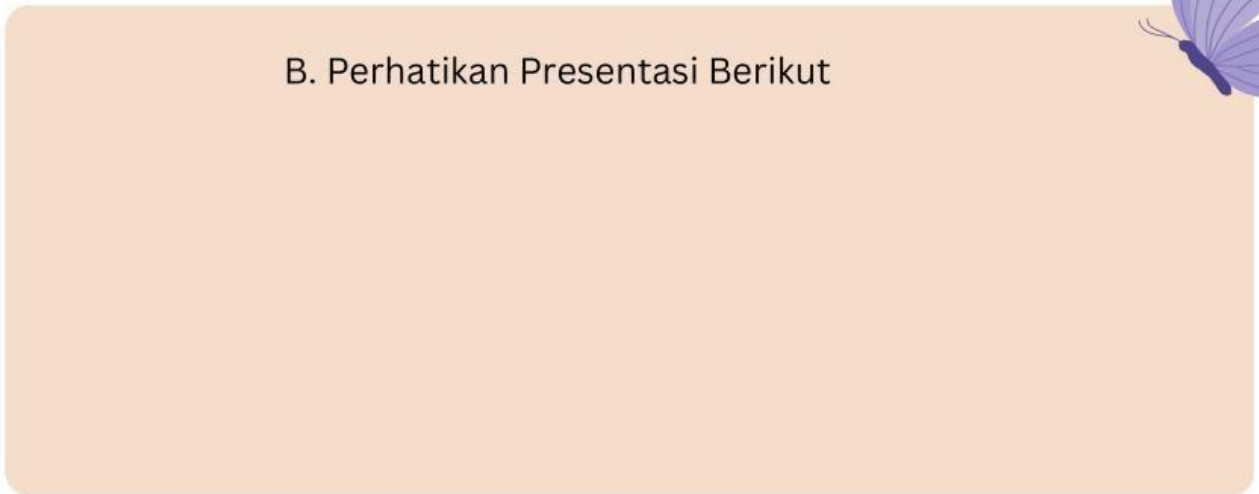
NURUL ANNISA



A. silahkan tonton vidio berikut!



B. Perhatikan Presentasi Berikut



C. Bacalah Materi berikut

D. Dengarkan audio berikut





# LATIHAN SOAL

## BILANGAN BULAT



### Teksfield

1. Bilangan yang tidak berupa bilangan desimal atau berupa bentuk pecahan disebut....

### Single choice

2. yang bukan merupakan jenis bilangan bulat adalah..

### Check boxes

3. Pernyataan yang benar adalah...

$2+2=4$

$2-7=5$

$6-(-2)=8$

### select

4. Hasil dari  $-6 + (-3) =$

9

-9

3

-3

### Word search

5. Temukan 5 angka pada kotak berikut ...

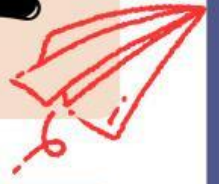
M	A	N	L	J	H	U	T	F	N	L	B	T	I
O	S	L	I	T	T	A	K	V	W	G	I	Q	I
N	J	E	G	V	V	L	U	C	I	N	E	K	R
V	I	S	C	H	I	O	R	U	Q	U	U	Q	S
Q	K	B	A	B	B	O	N	A	T	A	L	E	W
K	V	P	A	N	E	T	T	O	N	E	I	F	K
V	I	U	N	A	S	T	R	I	N	N	E	V	E
I	H	R	E	G	A	L	I	V	E	U	Z	G	J
Y	A	N	G	E	L	O	J	R	A	N	T	S	X
S	T	E	L	L	A	Y	X	B	N	A	S	T	C
E	L	F	O	F	F	B	I	S	C	O	T	T	I
B	P	I	A	L	B	E	R	O	G	A	H	I	X
O	K	D	G	H	I	R	L	A	N	D	A	S	K
A	L	P	V	Q	K	D	K	E	R	E	N	N	A





# LATIHAN SOAL

## BILANGAN BULAT



### SPEAK

6. Sebutkan bilangan berikut ini dengan tepat!

27



### LISTENING

7. Dengarkan suara berikut ini dan tuliskan jawabannya!



### DRAG AND DROP

8. Geser angka berikut kepada jawaban yang tepat

$$(-4)+5 =$$

9

$$4-5 =$$

1

$$4 - (-5) =$$

-1

### JOIN

9. Tarik garis soal berikut kepada jawaban yang benar!

Bilangan positif

0

Bilangan Nol

-3

Bilangan negatif

6

