



LKPD

LEMBAR KERJA PESERTA DIDIK

MATEMATIKA

Materi: Perkalian

Petunjuk:

- 1 Bacalah soal dengan teliti.
- 2 Hitung jumlah benda menggunakan perkalian.
- 3 Tuliskan jawaban pada kotak yang tersedia.

Nama :

Kelas :

Tanggal :

Ayo Menghitung dengan Perkalian!

1




Ada 3 kelompok, setiap kelompok berisi 5 ekor sapi.

$3 \times 5 = \underline{\quad}$

Jawaban:

6



4 kelompok kelinci, setiap kelompok berisi 5 ekor kelinci.

$4 \times 5 = \underline{\quad}$

Jawaban:

2



4 kelompok ayam, setiap kelompok berisi 2 ekor ayam.

$4 \times 2 = \underline{\quad}$

Jawaban:

7



2 kelompok kupu-kupu, setiap kelompok berisi 7 ekor kupu-kupu.

$2 \times 7 = \underline{\quad}$

Jawaban:

3



2 kelompok kambing, setiap kelompok berisi 6 ekor kambing.

$2 \times 6 = \underline{\quad}$

Jawaban:

8



5 kelompok lebah, setiap kelompok berisi 2 ekor lebah.

$5 \times 2 = \underline{\quad}$

Jawaban:

4



5 kelompok bebek, setiap kelompok berisi 3 ekor bebek.

$5 \times 3 = \underline{\quad}$

Jawaban:

9




3 kelompok katak, setiap kelompok berisi 8 ekor katak.

$3 \times 8 = \underline{\quad}$

Jawaban:

5



3 kelompok ikan, setiap kelompok berisi 4 ekor ikan.

$3 \times 4 = \underline{\quad}$

Jawaban:

10



4 kelompok kura-kura, setiap kelompok berisi 3 ekor kura-kura.

$4 \times 3 = \underline{\quad}$

Jawaban:



Nilai:

Paraf Guru: _____



LKPD

LEMBAR KERJA PESERTA DIDIK

MATEMATIKA

Materi: Perkalian

Petunjuk:

- 1 Bacalah soal dengan teliti.
- 2 Kerjakan soal dengan cara menuliskan jawaban pada bagian yang tersedia.
- 3 Periksa kembali jawabanmu sebelum dikumpulkan.


Nama :

Kelas :

Tanggal :

Kerjakan Soal Esai Berikut!

1




Ada 3 kelompok sapi, setiap kelompok berisi 5 ekor sapi.

Berapa jumlah seluruh sapi?

Jawab:

.....
.....

2




Ada 4 kelompok ayam, setiap kelompok berisi 2 ekor ayam.

Berapa jumlah seluruh ayam?

Jawab:

.....
.....

3




Ada 2 kelompok kambing, setiap kelompok berisi 6 ekor kambing.

Berapa jumlah seluruh kambing?

Jawab:

.....
.....

4



Ada 5 kelompok bebek, setiap kelompok berisi 3 ekor bebek.

Berapa jumlah seluruh bebek?

Jawab:

.....
.....

5



Ada 3 kelompok ikan, setiap kelompok berisi 4 ekor ikan.

Berapa jumlah seluruh ikan?

Jawab:

.....
.....



Nilai :

Paraf Guru :





LKPD

LEMBAR KERJA PESERTA DIDIK

MATEMATIKA

Materi: Perkalian

Petunjuk:

- 1 Bacalah soal dengan teliti.
- 2 Lengkapilah tabel dengan tepat.
- 3 Tuliskan jawaban pada kotak yang tersedia.

Nama :

Kelas :

Tanggal :

Lengkapilah tabel berikut!

1


Ada beberapa kelompok sapi, setiap kelompok berisi 5 ekor sapi.



Banyak Kelompok	Banyak Tiap Kelompok	Kalimat Perkalian	Hasil Perkalian
.....	5 x =

2

Ada beberapa kelompok ayam, setiap kelompok berisi 2 ekor ayam.



Banyak Kelompok	Banyak Tiap Kelompok	Kalimat Perkalian	Hasil Perkalian
.....	2 x =

3

Ada beberapa kelompok kambing, setiap kelompok berisi 6 ekor kambing.



Banyak Kelompok	Banyak Tiap Kelompok	Kalimat Perkalian	Hasil Perkalian
.....	6 x =

4


Ada beberapa kelompok bebek, setiap kelompok berisi 3 ekor bebek.



Banyak Kelompok	Banyak Tiap Kelompok	Kalimat Perkalian	Hasil Perkalian
.....	3 x =

5

Ada beberapa kelompok ikan, setiap kelompok berisi 4 ekor ikan.



Banyak Kelompok	Banyak Tiap Kelompok	Kalimat Perkalian	Hasil Perkalian
.....	4 x =

Nilai :

Paraf Guru :



LKPD

LEMBAR KERJA PESERTA DIDIK

MATEMATIKA

Materi: Perkalian

Petunjuk:

- 1 Bacalah soal dengan teliti.
- 2 Pilih pasangan jawaban yang benar.
- 3 Beri tanda (✓) pada jawaban yang kamu pilih.

Nama :




Kelas :

Tanggal :

Pilih pasangan perkalian yang hasilnya benar!

1

Ada 3 kelompok sapi, setiap kelompok berisi 5 ekor sapi. Berapa jumlah seluruh sapi?






$3 \times 4 = 12$

$3 \times 5 = 15$

$5 \times 3 = 18$

2

Ada 4 kelompok ayam, setiap kelompok berisi 2 ekor ayam. Berapa jumlah seluruh ayam?





$4 \times 2 = 6$

$2 \times 4 = 8$

$4 \times 3 = 12$

3

Ada 2 kelompok kambing, setiap kelompok berisi 6 ekor kambing. Berapa jumlah seluruh kambing?






$2 \times 5 = 10$

$2 \times 6 = 12$

$6 \times 2 = 14$

4

Ada 5 kelompok bebek, setiap kelompok berisi 3 ekor bebek. Berapa jumlah seluruh bebek?



$5 \times 3 = 12$

$3 \times 5 = 15$

$5 \times 4 = 20$

5

Ada 3 kelompok ikan, setiap kelompok berisi 4 ekor ikan. Berapa jumlah seluruh ikan?



$3 \times 4 = 7$

$3 \times 4 = 12$

$4 \times 3 = 12$



Nilai:

Paraf Guru:





LKPD

LEMBAR KERJA PESERTA DIDIK

MATEMATIKA

Materi: Perkalian

Petunjuk:

- 1 Bacalah soal dengan teliti.
- 2 Cocokkan soal perkalian di sebelah kiri dengan hasil yang benar di sebelah kanan dengan menarik garis.
- 3 Pastikan setiap soal memiliki satu jawaban yang tepat.

Nama :

Kelas :

Tanggal :



Tantangan Hebat!

Cocokkan soal perkalian dengan hasilnya yang benar!



2×5

•

10

12

15

3×3

•

6

9

12

4×4

•

12

16

20

Nilai :

Paraf Guru :





LKPD

LEMBAR KERJA PESERTA DIDIK

MATEMATIKA

Materi: Pembagian

Petunjuk:

- 1 Bacalah soal dengan teliti.
- 2 Hitung jumlah benda menggunakan pembagian.
- 3 Tuliskan jawaban pada kotak yang tersedia.

Nama :

Kelas :

Tanggal :

Ayo Menghitung dengan Pembagian!

1



Ada 15 ekor sapi. Dibagi sama banyak ke dalam 3 kelompok. Berapa banyak sapi di setiap kelompok?

$15 \div 3 = \underline{\quad}$

Jawaban:

6



Ada 24 ekor kelinci. Dibagi sama banyak ke dalam 6 kelompok. Berapa banyak kelinci di setiap kelompok?

$24 \div 6 = \underline{\quad}$

Jawaban:

2



Ada 12 ekor ayam. Dibagi sama banyak ke dalam 4 kelompok. Berapa banyak ayam di setiap kelompok?

$12 \div 4 = \underline{\quad}$

Jawaban:

7



Ada 14 ekor kupu-kupu. Dibagi sama banyak ke dalam 2 kelompok. Berapa banyak kupu-kupu di setiap kelompok?

$14 \div 2 = \underline{\quad}$

Jawaban:

3



Ada 18 ekor kambing. Dibagi sama banyak ke dalam 2 kelompok. Berapa banyak kambing di setiap kelompok?

$18 \div 2 = \underline{\quad}$

Jawaban:

8



Ada 10 ekor lebah. Dibagi sama banyak ke dalam 2 kelompok. Berapa banyak lebah di setiap kelompok?

$10 \div 2 = \underline{\quad}$

Jawaban:

4



Ada 20 ekor bebek. Dibagi sama banyak ke dalam 5 kelompok. Berapa banyak bebek di setiap kelompok?

$20 \div 5 = \underline{\quad}$

Jawaban:

9



Ada 18 ekor katak. Dibagi sama banyak ke dalam 3 kelompok. Berapa banyak katak di setiap kelompok?

$18 \div 3 = \underline{\quad}$

Jawaban:

5



Ada 16 ekor ikan. Dibagi sama banyak ke dalam 4 kelompok. Berapa banyak ikan di setiap kelompok?

$16 \div 4 = \underline{\quad}$

Jawaban:

10



Ada 15 ekor kura-kura. Dibagi sama banyak ke dalam 3 kelompok. Berapa banyak kura-kura di setiap kelompok?

$15 \div 3 = \underline{\quad}$

Jawaban:

Nilai :

Paraf Guru :





LKPD

LEMBAR KERJA PESERTA DIDIK

MATEMATIKA

Materi: Pembagian

Petunjuk:

- 1 Bacalah soal dengan teliti.
- 2 Kerjakan soal dengan cara menuliskan jawaban pada bagian yang tersedia.
- 3 Periksa kembali jawabanmu sebelum dikumpulkan.

Nama :

Kelas :

Tanggal :

Kerjakan Soal Esai Berikut!

1




Ada 15 ekor sapi yang dibagi sama rata ke dalam 3 kandang.

Berapa ekor sapi di setiap kandang?

Jawab:

2




Ada 12 ekor ayam yang dibagi sama rata ke dalam 4 kandang.

Berapa ekor ayam di setiap kandang?

Jawab:

3




Ada 18 ekor kambing yang dibagi sama rata ke dalam 2 kandang.

Berapa ekor kambing di setiap kandang?

Jawab:

4




Ada 20 ekor bebek yang dibagi sama rata ke dalam 5 kandang.

Berapa ekor bebek di setiap kandang?

Jawab:

5



Ada 16 ekor ikan yang dibagi sama rata ke dalam 4 kolam.

Berapa ekor ikan di setiap kolam?

Jawab:

Nilai : _____

Paraf Guru : _____



LKPD

LEMBAR KERJA PESERTA DIDIK

MATEMATIKA

Materi: Pembagian

Petunjuk:

- 1 Bacalah soal dengan teliti.
- 2 Lengkapilah tabel dengan tepat.
- 3 Tuliskan jawaban pada kotak yang tersedia.

Lengkapilah tabel berikut!

1 Ada beberapa kelompok sapi, setiap kelompok berisi 5 ekor sapi.



Jumlah Sapi	Banyak Kelompok	Sapi Tiap Kelompok	Kalimat Pembagian	Hasil Pembagian
15	3	$15 \div 3 = \dots\dots$

2 Ada beberapa kelompok ayam, setiap kelompok berisi 2 ekor ayam.



Jumlah Ayam	Banyak Kelompok	Ayam Tiap Kelompok	Kalimat Pembagian	Hasil Pembagian
12	4	$12 \div 4 = \dots\dots$

3 Ada beberapa kelompok kambing, setiap kelompok berisi 6 ekor kambing.



Jumlah Kambing	Banyak Kelompok	Kambing Tiap Kelompok	Kalimat Pembagian	Hasil Pembagian
18	2	$18 \div 2 = \dots\dots$

4 Ada beberapa kelompok bebek, setiap kelompok berisi 3 ekor bebek.



Jumlah Bebek	Banyak Kelompok	Bebek Tiap Kelompok	Kalimat Pembagian	Hasil Pembagian
15	5	$15 \div 5 = \dots\dots$

5 Ada beberapa kelompok ikan, setiap kelompok berisi 4 ekor ikan.



Jumlah Ikan	Banyak Kelompok	Ikan Tiap Kelompok	Kalimat Pembagian	Hasil Pembagian
16	4	$16 \div 4 = \dots\dots$

Nilai :

Paraf Guru :



LKPD

LEMBAR KERJA PESERTA DIDIK

MATEMATIKA

Materi: Pembagian

Petunjuk:

- 1 Bacalah soal dengan teliti.
- 2 Pilih pasangan jawaban yang benar.
- 3 Beri tanda (✓) pada jawaban yang kamu pilih.

Nama :

Kelas :

Tanggal :



Pilih pasangan pembagian yang hasilnya benar!



1

Ada 15 ekor sapi yang dibagi sama banyak ke dalam 3 kandang. Berapa ekor sapi di setiap kandang?



$15 \div 3 = 3$




$15 \div 3 = 5$




$15 \div 3 = 6$

2


Ada 12 ekor ayam yang dibagi sama banyak ke dalam 4 kandang. Berapa ekor ayam di setiap kandang?



$12 \div 4 = 2$



$12 \div 4 = 3$



$12 \div 4 = 4$

3

Ada 18 ekor kambing yang dibagi sama banyak ke dalam 2 kandang. Berapa ekor kambing di setiap kandang?



$18 \div 2 = 6$



$18 \div 2 = 7$



$18 \div 2 = 9$

4

Ada 20 ekor bebek yang dibagi sama banyak ke dalam 5 kandang. Berapa ekor bebek di setiap kandang?



$20 \div 5 = 2$




$20 \div 5 = 4$




$20 \div 5 = 5$

5


Ada 16 ekor ikan yang dibagi sama banyak ke dalam 4 kolam. Berapa ekor ikan di setiap kolam?



$16 \div 4 = 2$



$16 \div 4 = 4$



$16 \div 4 = 6$



Nilai :

Paraf Guru :





LKPD

LEMBAR KERJA PESERTA DIDIK

MATEMATIKA

Materi: Pembagian

Petunjuk:

- 1 Bacalah soal dengan teliti.
- 2 Cocokkan soal pembagian di sebelah kiri dengan hasil yang benar di sebelah kanan dengan menarik garis.
- 3 Pastikan setiap soal memiliki satu jawaban yang tepat.

Nama :

Kelas :

Tanggal :



Tantangan Hebat!



Cocokkan soal pembagian dengan hasilnya yang benar!

$15 \div 3$

•

2

3

5

$20 \div 4$

•

4

5

6

$18 \div 2$

•

6

8

9

$24 \div 6$

•

3

4

5

$21 \div 7$

•

2

3

4



Nilai :

Paraf Guru :

