



**Kurikulum
Merdeka**

LKPD

Lembar Kerja Peserta Didik

Bentang Alam

Nama :

Kelas :

Miftahul Jannah 22060130

LEMBAR KERJA PESERTA DIDIK

SAatuan pendidikan: SDN 1 TORGMBA

Kelas/ Semester: III/2

Mata pelajaran: IPAS

Topik: Bentahg Alam

Tujuan Pembelajaran

1. Peserta didik dapat memahami keanekaragaman bentang alam (C2).
2. Peserta didik dapat menganalisis keberagamana bentang alam dengan profesi Masyarakat di daerahnya (C4).
3. Peserta didik dapat menunjukkan keanekaragaman bentang alam di daerahnya secara langsung atau melalui media, menggunakan keterampilan pengamatan dan presentasi secara jelas dan benar (P3).

Petunjuk penggunaan LKPD

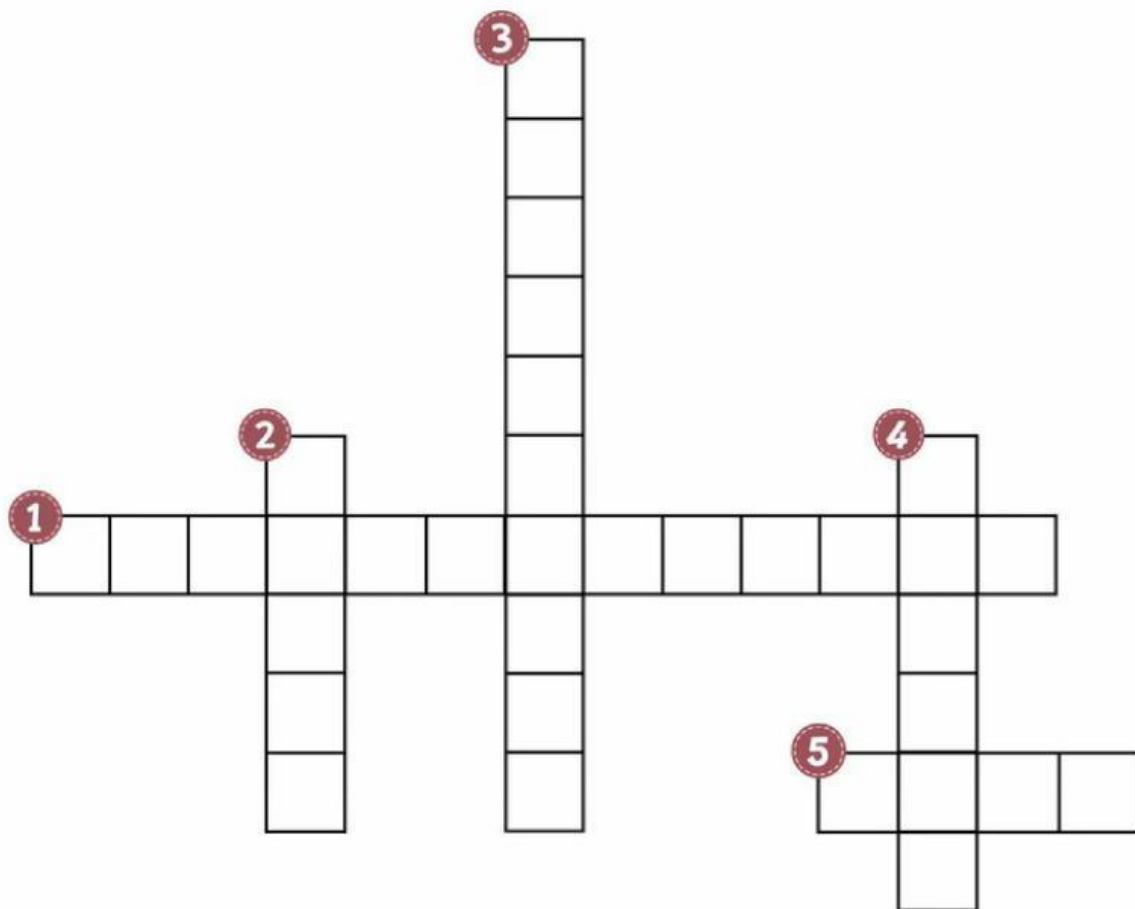
1. Silahkan baca dengan teliti setiap kegiatan yang akan dilakukan
2. Dengarkan terlebih dahulu instruksi dari gurumu
3. Silahkan kerjakan tugas sesuai dengan perintah pada langkah-Langkah Kegiatan cermat



Nama :

Kelas :

TEKA-TEKI BENTANG ALAM



Pertanyaan :


- 1 Hamparan tanah lapang biasanya berdekatan dengan pantai dan menjadi kawasan padat penduduk.
- 2 Cekungan besar yang dikelilingi oleh daratan.
- 3 Memiliki ketinggian yang saling terhubung dan memanjang.
- 4 Batas antara daratan dan lautan.
- 5 Mengelilingi sebagian besar daratan bumi.

BENTANGAN ALAM

Tuliskan nama bentangan alam dengan tepat di bawah ini

Nama:

Kelas:



Kenampakan Alam

Daratan

Nama:

Kelas:



Tulislah jawaban yang benar pada kolom yang disediakan!

1




Sebutkan nama kenampakan alam di atas! _____

Apa saja ciri-cirinya? _____

Bagaimana manfaatnya? _____

2




Sebutkan nama kenampakan alam di atas! _____

Apa saja ciri-cirinya? _____

Bagaimana manfaatnya? _____

3



Sebutkan nama kenampakan alam di atas! _____

Apa saja ciri-cirinya? _____

Bagaimana manfaatnya? _____

4



Sebutkan nama kenampakan alam di atas! _____

Apa saja ciri-cirinya? _____

Bagaimana manfaatnya? _____

Analisis Dampak Bentang Alam terhadap Risiko Bencana

Bayangkan kamu tinggal di daerah pegunungan yang aktif secara vulkanik. Analisis tiga risiko bencana yang mungkin terjadi di wilayah tersebut



1

2

3

Sebutkan tindakan apa yang bisa diambil oleh masyarakat untuk mengurangi dampak dari bencana tersebut.

.....
.....
.....
.....
.....

Menyimpulkan Manfaat Suatu Bentang Alam

Perhatikan gambar bentang alam di bawah ini. Berikan penjelasan mengenai manfaat dari bentang alam tersebut untuk masyarakat yang tinggal di sekitarnya.



Nama bentang alam:

.....
.....
.....
.....
.....



Nama bentang alam:

.....
.....
.....
.....
.....



Nama bentang alam:

.....
.....
.....
.....
.....