



ALUNO (A): _____

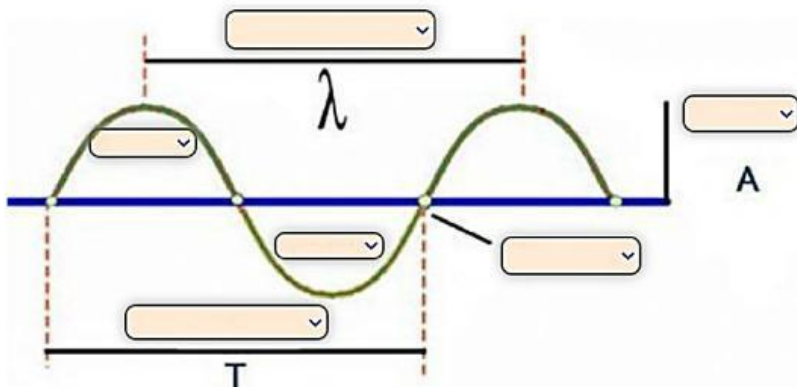
TURMA: _____

PROFESSOR (A): Priscila Caetano COMPONENTE CURRICULAR: CIÊNCIAS


DATA: ___/___/___

ATIVIDADE AVALIATIVA – 9º ANO – 2º BIMESTRE

1. COM BASE NO QUE FOI ESTUDADO, IDENTIFIQUE CORRETAMENTE OS ELEMENTOS DE UMA ONDA:

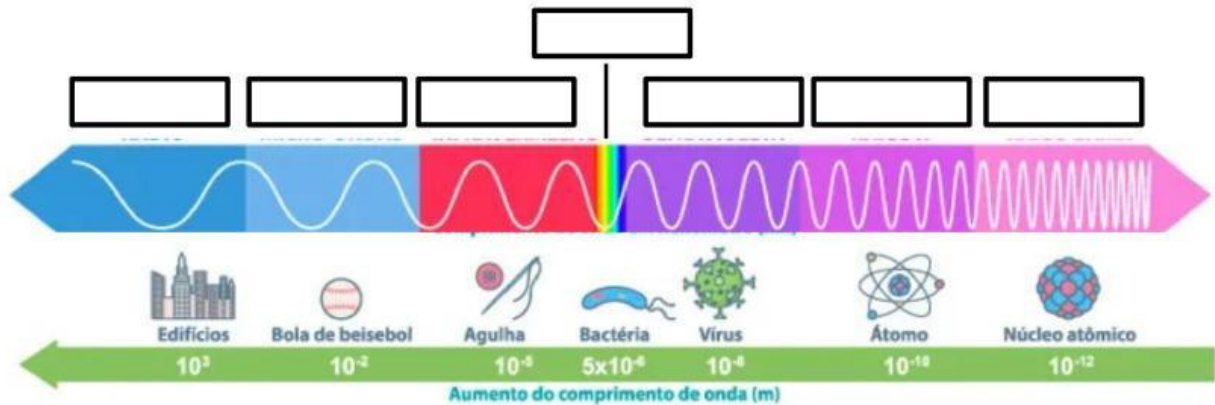


2. RELACIONE OS FENÔMENOS DAS IMAGENS ABAIXO COM OS TIPOS DE ONDA:





3. ELETROMAGNÉTICAS, SEGUNDO A SUA POSIÇÃO NO ESPECTRO ELETROMAGNÉTICO:



GAMMA IV RAIOS X MICRO-ONDAS UV ONDAS DE RÁDIO VISÍVEL

4. LIGUE PARA CLASSIFICAR AS ONDAS:

ONDAS DO MAR

GRITO DE TORCIDA DE FUTEBOL

A LUZ

O SOM

RAIOS ULTRAVIOLETAS

RUÍDO DE UM MOTOR

WI-FI

ONDAS DE RÁDIO

