

BÀI 15

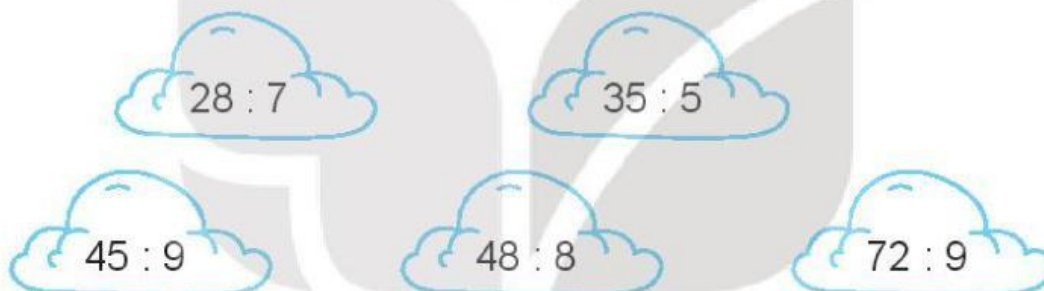
LUYỆN TẬP CHUNG

Tiết 1

1 ✎ Tính nhẩm.

a) $7 \times 4 = \dots$ $8 \times 6 = \dots$ $9 \times 5 = \dots$ $6 \times 9 = \dots$
b) $5 \times 8 = \dots$ $4 \times 9 = \dots$ $8 \times 8 = \dots$ $3 \times 7 = \dots$

2 ✎ Tô màu vào những đám mây ghi phép tính có kết quả bé hơn 7.



3 ✎ Số ?

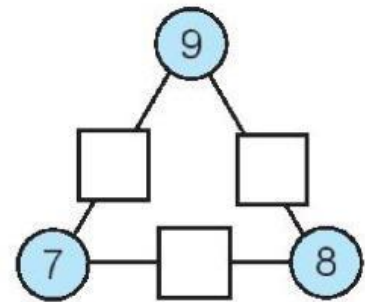
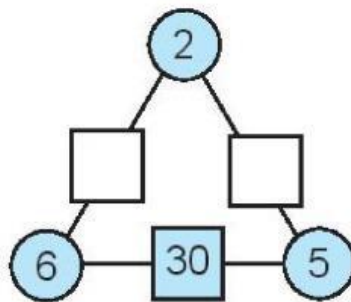
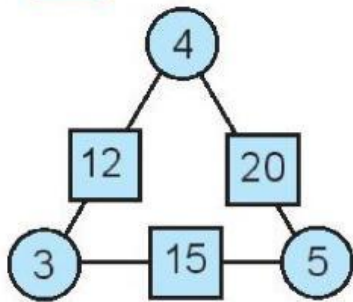
a) $\square \times 8 = 56$ b) $\square : 7 = 6$
c) $5 \times \square = 45$ d) $45 : \square = 9$

4 ✎ Mai xếp mỗi bàn 6 cái li và xếp 8 bàn như vậy. Hỏi Mai xếp tất cả bao nhiêu cái li?

Bài giải

.....
.....
.....

5 ✎ Số ?



Tiết 2

1 ✎ Tính nhẩm.

$5 \times 7 = \dots$

$6 \times 8 = \dots$

$9 \times 7 = \dots$

$8 \times 4 = \dots$

$7 \times 5 = \dots$

$8 \times 6 = \dots$

$7 \times 9 = \dots$

$4 \times 8 = \dots$

$35 : 5 = \dots$

$48 : 6 = \dots$

$63 : 9 = \dots$

$32 : 8 = \dots$

$35 : 7 = \dots$

$48 : 8 = \dots$

$63 : 7 = \dots$

$32 : 4 = \dots$

2 ✎ Mẹ của Nam mua về 21 quả cam. Mẹ bảo Nam xếp cam vào các đĩa, mỗi đĩa 7 quả. Hỏi Nam xếp được bao nhiêu đĩa cam như vậy?

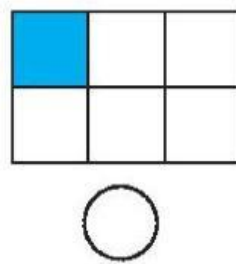
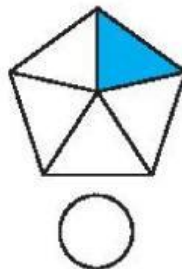
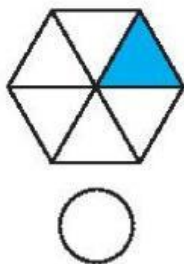
Bài giải

.....

.....

.....

3 ✎ a) Viết dấu "x" vào ô trống dưới hình đã tô màu $\frac{1}{6}$ hình đó.



b) Số ?



- $\frac{1}{8}$ số ngôi sao là ngôi sao;
- $\frac{1}{4}$ số ngôi sao là ngôi sao.

4 Khoanh vào chữ đặt trước câu trả lời đúng.

a) Phép tính nào dưới đây có kết quả lớn nhất?

- A. 6×5 B. 4×7 C. 3×9 D. 8×4

b) Phép tính nào dưới đây có kết quả bé nhất?

- A. $16 : 2$ B. $42 : 6$ C. $70 : 7$ D. $72 : 8$

5 Số ?

