


LKPD

MATEMATIKA

KELAS 1 SEKOLAH DASAR

nama kelompok :

Kelas:



TUJUAN PEMBELAJARAN

Setelah mengerjakan LKPD ini, peserta didik dapat:

Menyelesaikan operasi penjumlahan dengan benar.

Menghitung hasil penjumlahan bilangan sederhana.



Menerapkan penjumlahan dalam kehidupan sehari-hari.

Nama kelompok :



Kelas:


AYO BERHITUNG



Hitunglah hasil dari penjumlahan sayuran di bawah ini!

1  +  =

2  +  =

3  +  =

4  +  =

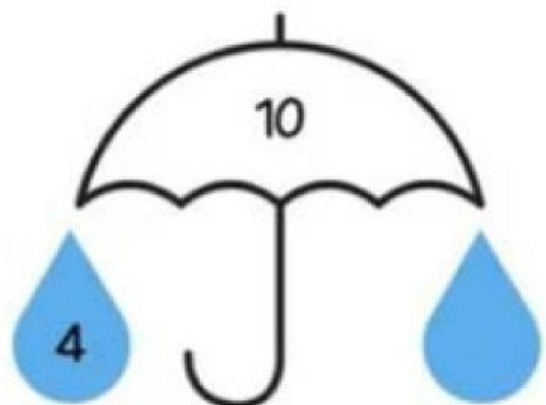
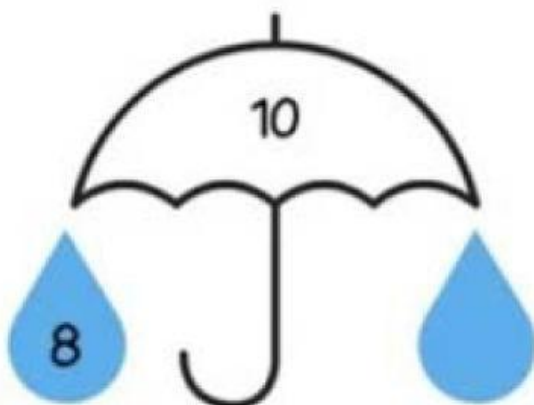
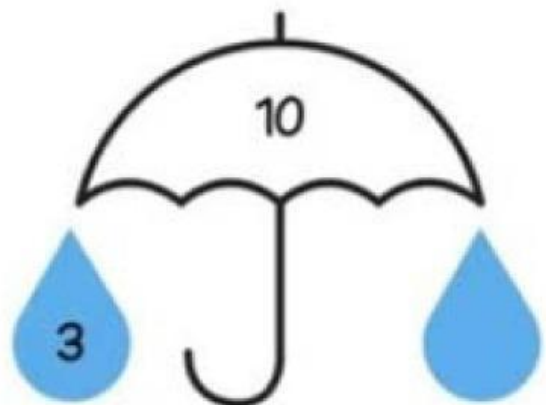
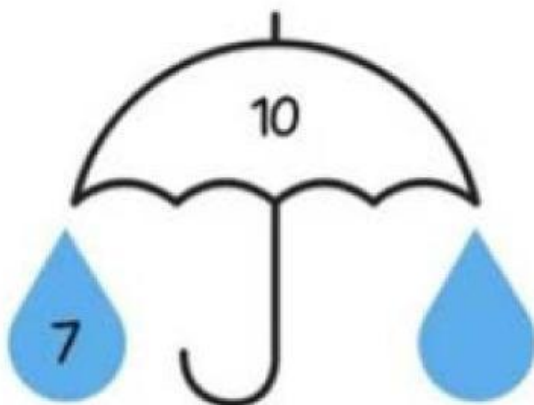
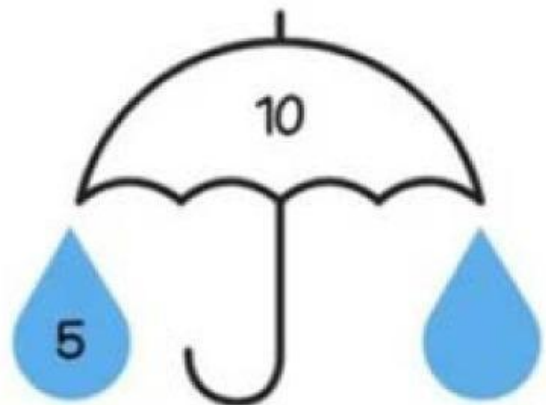
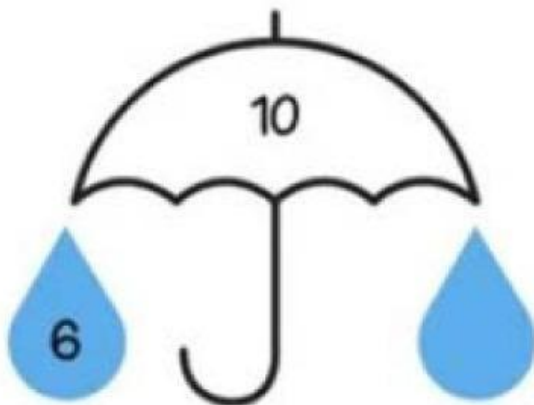
5  +  =

Nama:

Kelas:

Penjumlahan 10

Isilah titik hujan di sebelah kanan dengan angka yang nantinya jika dijumlahkan jawabannya adalah 10!



Soal Cerita Matematika

Ayo, jawab soal cerita penjumlahan di bawah ini dengan tepat!



Tadi pagi Claudia membeli 2 buah apel merah dan 3 buah apel hijau. Jadi berapakah jumlah buah apel yang dibeli Claudia?



Daniel memiliki 3 buah jeruk dan 4 buah mangga. Jadi berapakah jumlah buah yang dimiliki Daniel?



Kakek Aaron mempunyai 3 buah lemon dan 1 buah anggur. Jadi berapakah jumlah buah yang dimiliki Aaron?



Sebastian memiliki 2 buah jambu air dan 4 buah melon. Jadi berapakah jumlah buah yang dimiliki sebastian?




Donna membeli 6 buah durian dan 3 buah pisang di pasar. Jadi berapakah jumlah buah yang dibeli Donna?

Nama:


Kelas:

MENCOCOKKAN BUAH


Cocokkanlah jumlah buah dengan angka menggunakan garis!




10




7



9



8



6



Refleksi Belajar Hari ini



Nama:

Kelas:

Guru:

Tanggal:

Lingkari salah satu emoji yang paling menggambarkan perasaanmu.



Hal yang Saya
Pelajari Hari ini:



Hal yang masih
Membingungkan:



Komentar untuk Guru:





*Setiap langkah kecil adalah bagian dari perjalanan besar.
Terima kasih sudah berusaha hari ini!*