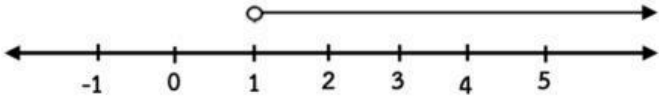
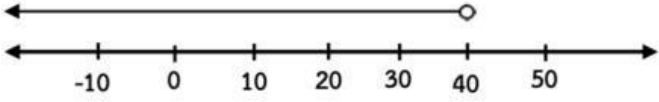
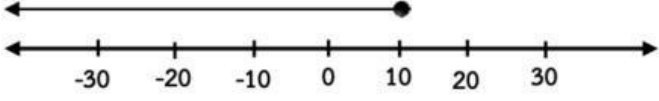
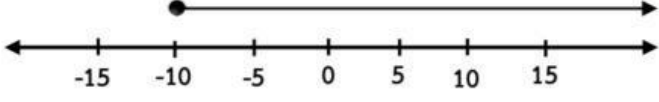
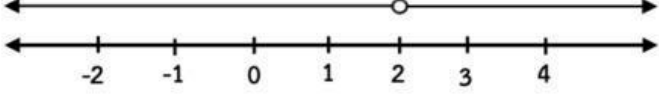
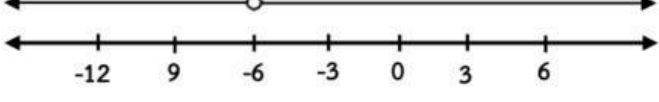
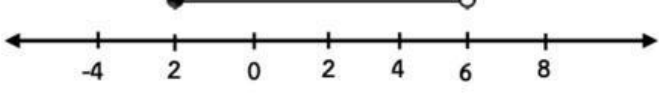
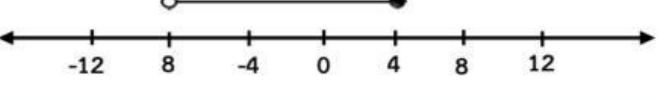
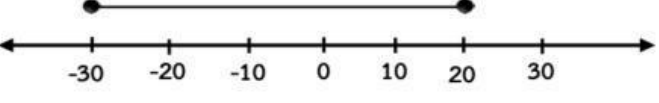
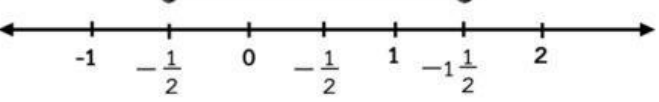


แบบฝึกทักษะเรื่อง กราฟแสดงคำตอบของสมการ

คำชี้แจง จากกราฟที่กำหนดให้แสดงจำนวนใด

กราฟ	แสดงจำนวน
1. 	
2. 	
3. 	
4. 	
5. 	
6. 	
7. 	
8. 	
9. 	
10. 	

คำชี้แจง จงเขียนกราฟแสดงจำนวนที่เป็นคำตอบของสมการต่อไปนี้

สัญลักษณ์	ข้อความ
1. $x > 8$	
2. $x < -4$	
3. $n \neq 20$	
4. $x \geq -12$	
5. $y \leq 21$	
6. $-3 \leq x \leq 9$	
7. $x < \frac{3}{2}$	
8. $k + 2 > k$	
9. $x - 1 < x$	
10. $m \neq -5$	