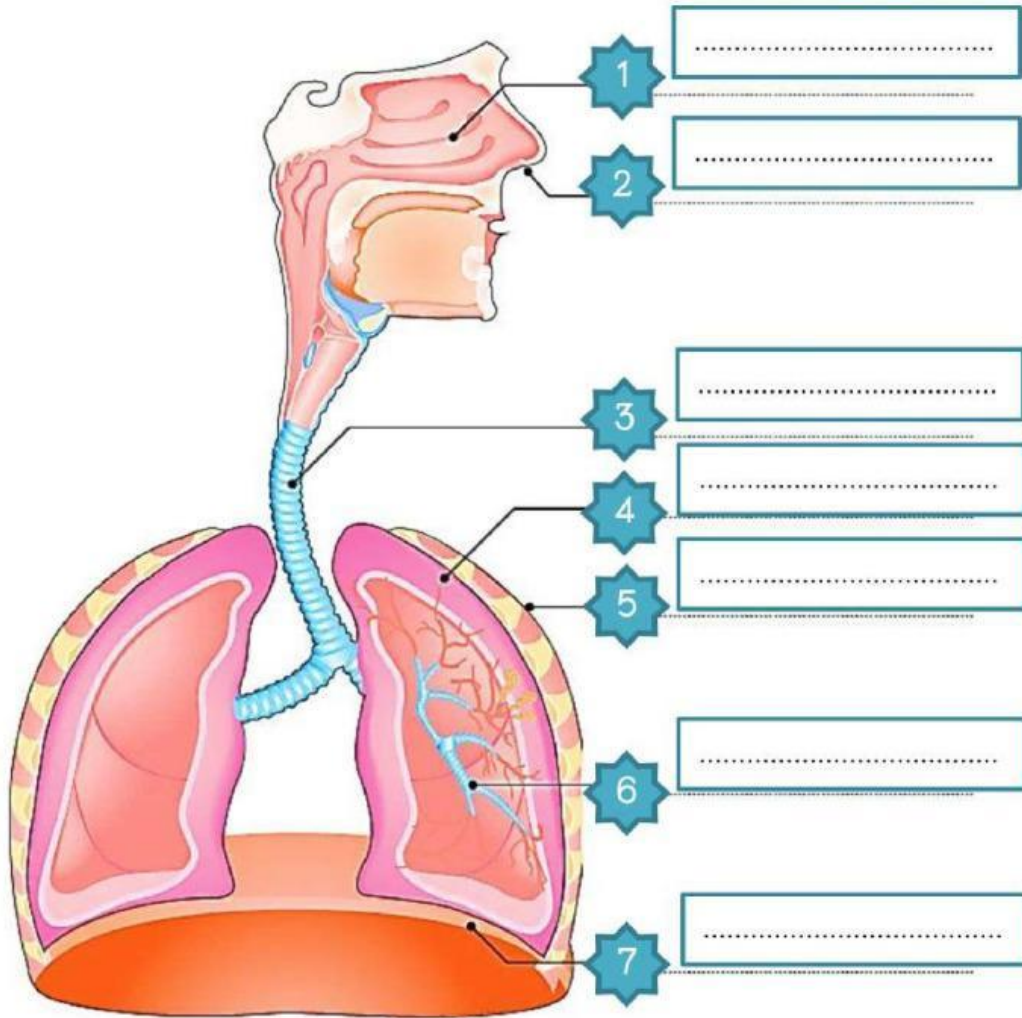


ชื่อ-นามสกุล	ชั้น ม.2	เลขที่
ใบงานที่ 2.1	หน่วยการเรียนรู้ที่ 2 ระบบในร่างกายของมนุษย์	
เรื่อง ระบบหายใจ		
มาตรฐาน/ตัวชี้วัดระหว่างทาง ว 1.2 ม.2/1, ม.2/2		

คะแนนที่ได้

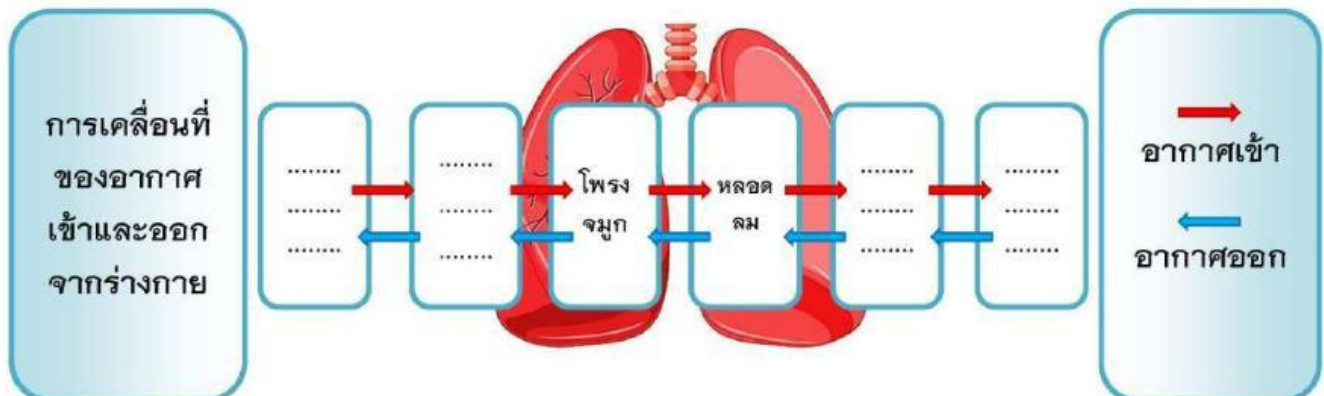
ตอนที่ 1

คำชี้แจง : จงระบุชื่ออวัยวะที่เกี่ยวข้องกับระบบหายใจให้ถูกต้อง



ตอนที่ 2

คำชี้แจง : จงเติมคำให้สอดคล้องกับการเคลื่อนที่ของอากาศเข้าและออกจากร่างกาย



ชื่อ-นามสกุล	ชั้น ม.2	เลขที่
ใบงานที่ 2.2	หน่วยการเรียนรู้ที่ 2 ระบบในร่างกายของมนุษย์	
เรื่อง กลไกการทำงานของระบบหายใจ		
มาตรฐาน/ตัวชี้วัดระหว่างทาง ว 1.2 ม.2/1, ม.2/2		

คะแนนที่ได้

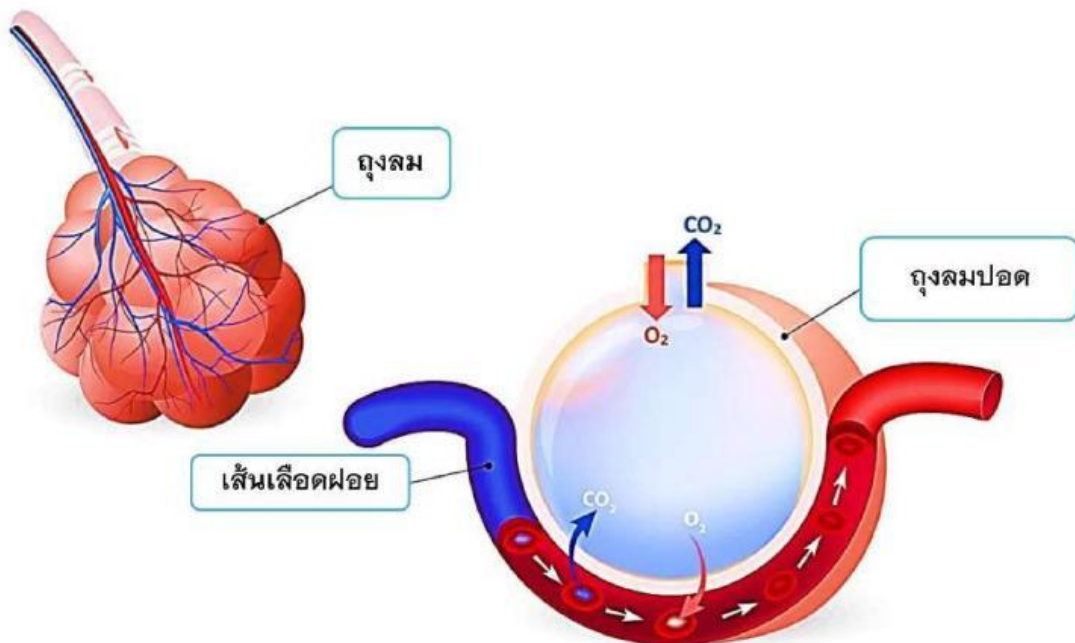
ตอนที่ 1

คำชี้แจง : จงบอกการเปลี่ยนแปลงที่เกิดขึ้นในกลไกการหายใจ ของอวัยวะที่กำหนดมาให้

กลไกการหายใจ	กล้ามเนื้อยึดกระดูกซี่โครง	กระดูกซี่โครง	กล้ามเนื้อกระบังลม	กระบังลม
หายใจเข้า
หายใจออก

ตอนที่ 2

คำชี้แจง : จงอธิบายกระบวนการแลกเปลี่ยนแก๊สที่เกิดขึ้นบริเวณปอด



บริเวณปอด

.....

.....

.....

.....

.....