

LKPD

MATEMATIKA

melakukan penjumlahan dan pengurangan
menggunakan benda-benda konkret

Kelas 1 Sekolah Dasar



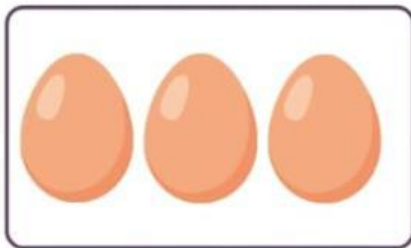

Nama:

Kelas:

Materi Operasi Hitung Dasar Penjumlahan Matematika Anak



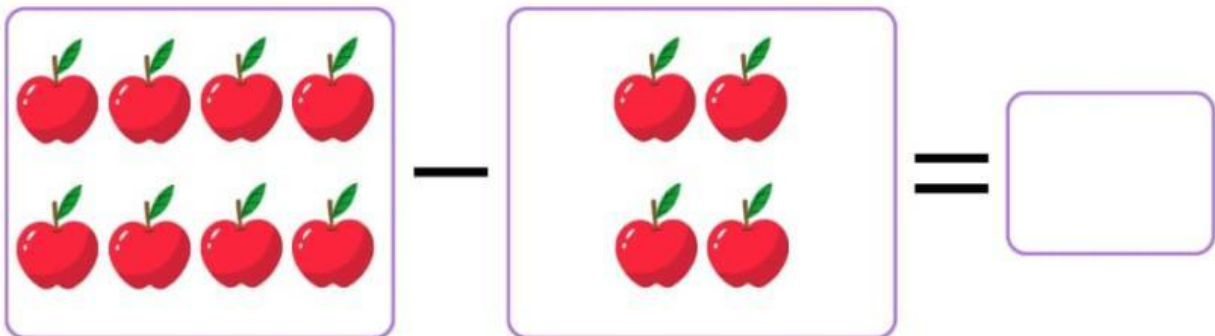
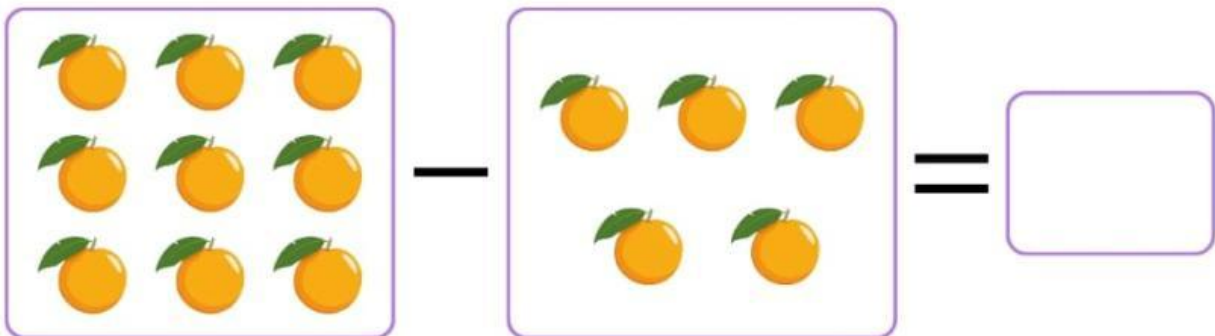
Mari Kita Mencocokkan Jumlah

Perhatikan gambar yang ada di bawah ini dengan seksama, kemudian buatlah sebuah garis untuk menghubungkan gambar dengan angka yang sesuai jumlahnya!



YUK BELAJAR PENGURANGAN

Hitunglah hasil pengurangan di bawah ini, lalu tuliskan hasilnya pada kolom yang telah disediakan!



PENJUMLAHAN DAN PENGURANGAN BERGAMBAR KELAS 1

LATIHAN SOAL CERITA



PETUNJUK :

Kerjakan soal dibawah dengan seksama!



Coba hitung ada berapa jumlah gambar ice cream jika dijumlahkan dengan gambar permen?




-



Sekarang coba hitung berapa jumlah lollipop jika dikurangi dengan jumlah semangka pada gambar diatas..!

Ayah memiliki 4 ekor sapi dikandang, pada suatu pagi tiba-tiba 2 sapi ayah mati. Coba sekarang kamu hitung ada berapa sapi ayah yang masih hidup..



Coba sekarang hitunglah berapa jumlah gambar ikan yang berwarna biru jika dijumlahkan dengan gambar ikan yang berwarna hijau!

