

แบบฝึกหัด 1 เรื่อง จำนวนเต็มและการเปรียบเทียบจำนวนเต็ม
 หน่วยการเรียนรู้ที่ 1 เรื่อง จำนวนเต็ม
 แผนการจัดการเรียนรู้ที่ 1 เรื่อง จำนวนเต็มและการเปรียบเทียบจำนวนเต็ม
 รายวิชา คณิตศาสตร์ รหัสวิชา ค21101 ภาคเรียนที่ 1 ชั้นมัธยมศึกษาปีที่ 1

ตอนที่ 1

คำชี้แจง ให้นักเรียนพิจารณาจำนวนที่กำหนดให้แล้วเลือกจำนวนบวกและเต็มลบ

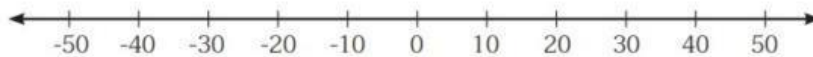
-2	$\frac{16}{4}$	12	$\frac{3}{3}$	0
4.8	88	-23	-9	-3
-5	$\frac{20}{10}$	7.5	$1\frac{2}{3}$	-41

ตอนที่ 2 คำชี้แจง ให้นักเรียนเปรียบเทียบจำนวนเต็มต่อไปนี้

โดยลงจุดบนเส้นจำนวนพร้อมทั้งเติมเครื่องหมาย >

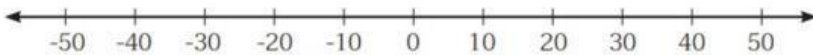
หรือ < ลงใน เพื่อให้ประโยคต่อไปนี้เป็นจริง

1. 38 และ -45



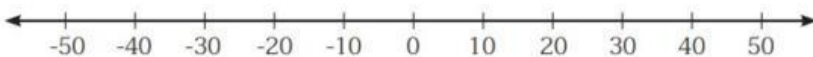
จากการลงจุดบนเส้นจำนวน จะได้ว่า $38 \square -45$

2. -45 และ -32



จากการลงจุดบนเส้นจำนวน จะได้ว่า $-45 \square -32$

3. 0 และ -10



จากการลงจุดบนเส้นจำนวน จะได้ว่า $0 \square -10$

ตอนที่ 3 เรียงลำดับจำนวนที่กำหนดให้จากน้อยไปมาก

1. 11, -5, -7, 0, 13 เรียงลำดับได้ ดังนี้.....
2. -1, -21, -15, 1, 12 เรียงลำดับได้ ดังนี้.....
3. -32, 9, 25, 8, 11 เรียงลำดับได้ ดังนี้.....
4. 5, 6, -23, -32, -7 เรียงลำดับได้ ดังนี้.....
5. -4, 2, -19, -10, -15 เรียงลำดับได้ดังนี้

ตอนที่ 4 จงตอบคำถามต่อไปนี้ค้นหาข้อมูลอุณหภูมิของเมืองสำคัญในประเทศต่าง ๆ จากแอปพลิเคชัน
ณ วันหนึ่ง ได้เป็นดังนี้

- 1) ที่เมืองนิวยอร์ก ประเทศสหรัฐอเมริกา มีอุณหภูมิ -1°C
- 2) ที่กรุงโตเกียว ประเทศญี่ปุ่น มีอุณหภูมิ 2°C
- 3) ที่นครซิดนีย์ ประเทศออสเตรเลีย มีอุณหภูมิ 22°C
- 4) ที่กรุงเบอร์ลิน ประเทศเยอรมนี มีอุณหภูมิ 15°C 5) ที่กรุงฮาร์บิน ประเทศจีน มีอุณหภูมิ -4°C
เรียงลำดับเมืองที่มีอุณหภูมิต่ำที่สุดไปสูงที่สุด



.....
.....