

Gamtos testas

1. Kaip vadinasi šios buveinės?



2 taškai

2. Nurodyk po 2 pievos ir miško gyventojus.

PIEVA

MIŠKAS

2 taškai

3. Parašyk po du teiginius, kuo miškas ir pieva naudingi žmonėms ir gyvūnams.

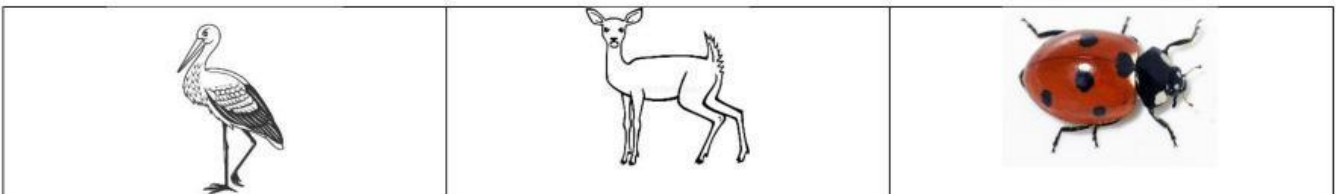
4 taškai

4. Kodėl nevalia darkyti miško paklotės? Užbaik sakinį.

Miško paklotės nevalia rauti ar kitaip jai kenkti, nes _____

1 taškas


5. Kuris iš šių gyvūnų yra žolėdis? Pažymėk.



Kodėl šis gyvūnas vadinamas žolėdžiu?

2 taškai

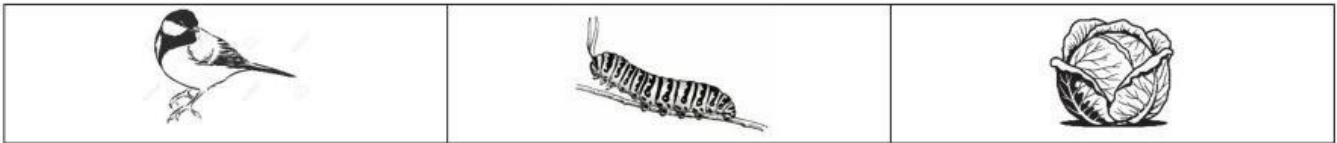
6. Kuris iš šių gyvūnų yra plėšrūnas? Pažymėk.



Kodėl šis gyvūnas vadinamas plėšrūnu?

2 taškai

7. Kas kuo maitinasi? Sudaryk mitybos grandinę (surašyk organizmų pavadinimus).



3 taškai

8. Kokias žinai natūralias buveines? Parašyk 3 pavadinimus.

..... , ,

3 taškai

9. Kaip žmogus gali pakenkti natūralioms buveinėms?

.....

1 taškas

10. Parašyk po du pievų ir miškų augalus.

PIEVA

MIŠKAS

.....
.....

.....
.....

2 taškai

11. Kodėl natūraliose buvenėse mažėja kai kurių organizmų, pvz. varlių? Parašyk dvi jų nykimo priežastis.

.....
.....

2 taškai

Galėjai surinkti 24 taškus, surinkai _____